

## TÜRKÇE TESTİ

1. Bu bölümde yanıtlayacağınız soru sayısı 12 dir.
2. Cevaplarınızı cevap kağıdınızın TÜRKÇE için ayrılan kısmına işaretleyiniz.

## DENEME SINAVI

## 4. SINIF TÜRKÇE SORULARI

1. Aşağıdaki cümlelerin hangisinde hece düşmesine uğramış bir sözcük vardır?

- A) Ayrı düşmek  
B) Göğe ermek  
C) Gözden düşmek  
D) Gözde olmak

2. Aşağıdakilerden hangisi yapı bakımından olumsuz bir cümle değildir?

- A) Her zaman senin dediğin olmaz.  
B) İki cambaz bir ipte oynamaz.  
C) Ders çalışmaya başla gelir gelmez.  
D) Bizimle hiç ilgilenmedi.

3. Aşağıdaki cümlelerin hangisinde yazım yanlışı vardır?

- A) Arkadaşım Begüm, Ankara'lıdır.  
B) Betül 18 Nisan 2003'te doğdu.  
C) Sen de bizimle gelecek misin?  
D) Eyvah, yemek yandı!

4. Aşağıdaki cümlelerin hangisinde birden fazla yapım eki alan bir sözcük vardır?

- A) Öğretmenlik en güzel meslektir.  
B) Her konuda bilgisi vardır.  
C) Bakıcı işi bırakmış.  
D) Çay şekerli diye içmedi.

5. Aşağıdaki cümlelerin hangisinde sebep-sonuç ilişkisi yoktur?

- A) Candan Erçetin'i sevdiğimden şarkılarını dinlerim.  
B) Hastalanmasına sebep oldu.  
C) Soğuk su içtiğim için boğazlarım şişti.  
D) Sular kesildiğinden duş alamamış.

6. Aşağıdaki sözcüklerden hangisinin hem sesteşi, hem anlamdaşı hem de karşıt anlamlısı vardır?

- A) Diken  
B) Çay  
C) Ocak  
D) Kara

7. Aşağıdakilerin hangisinde kaynaştırma harfi “y” kullanılmıştır?

- A) Balayı
- B) koruyu
- C) yayık
- D) kayıp

8. Aç bir tilki, çardaktan salkım salkım üzümlerin sarktığını görmüş. Ağzı sulanmış, yemek istemiş, zıplamış; ama üzümlere yetişememiş. Yetişemeyince de: “Bunlar daha koruk, zaten yenilmez.” demiş.

Yukarıdaki paragrafın ana düşüncesi aşağıdaki atasözlerinden hangisidir?

- A) Kedi uzanamadığı çiğere murdar der.
- B) Keçiyi yardan uçuran bir tutam ottur.
- C) Kaynayan kazan kapak tutmaz.
- D) Kazma elin kuyusunu kazarlar kuyunu.

9. Aşağıdakilerden bir paragraf oluşturulduğunda, hangisi bu paragrafın ilk cümlesi olur?

- A) Böylece her insan haksızlığa uğrayabilir.
- B) Geçenlerde beni çok üzen bir olay oldu.
- C) İnsanlara karşı güvenim de sarsıldı.
- D) Onu da bir türlü anlayamadım.

10. Çiçek vardır koklanmak içindir; çiçek vardır dalında güzeldir. Kimi çiçekler hem koklanır, hem de güzeldir. Neden söz ettiğimi anlamadınız sanırım: Çocuklar... Başka bir deyişle çiçeklerle sevginin, barışın ta kendisidir. Dünyamız onlarla güzelleşir, onlarla değer bulur.

Yukarıda verilen parçanın ana duygusu aşağıdakilerden hangisidir?

- A) Çocuklar, güzellik bakımından çiçeklere benzer.
- B) Dünyada en önemli şey barıştır.
- C) Dünyamızı değerli ve güzel kılan çocuklardır.
- D) Çiçeğin olmadığı yerde çocuk da olmaz.

11. “Yan” sözcüğü aşağıdaki cümlelerin hangisinde “beraberinde” anlamında kullanılmıştır?

- A) Yandaki sınıftan çok gürültü geliyor.
- B) Yanlarında arkadaşları da vardı.
- C) Serviste yan koltukta oturuyor.
- D) Kardeşimin odasının yanında benim odam var.

12. “Birini işten çıkarmak, yol vermek, yanından uzaklaştırmak.” anlamına gelen deyim aşağıdakilerden hangisidir?

- A) Seyirci kalmak
- B) Sırta kadem basmak
- C) Sepet havası çalmak
- D) Son kozunu oynamak

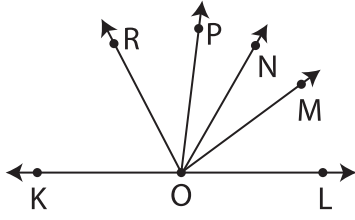
Türkçe testi bitti.  
Matematik testine geçiniz.

**MATEMATİK TESTİ**

1. Bu bölümde yanıtlayacağınız soru sayısı 12 dir.  
2. Cevaplarınızı cevap kağıdınızın **MATEMATİK** için ayrılan kısmına işaretleyiniz.

**DENEME SINAVI****4. SINIF MATEMATİK SORULARI**

1.

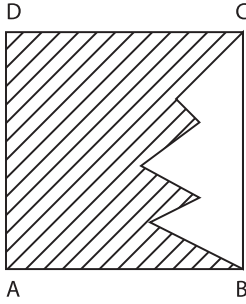


$$\begin{aligned} \sphericalangle(\widehat{M\hat{O}L}) &= 30^\circ \\ \sphericalangle(\widehat{M\hat{O}N}) &= 35^\circ \\ \sphericalangle(\widehat{P\hat{O}N}) &= 25^\circ \\ \sphericalangle(\widehat{P\hat{O}R}) &= 35^\circ \end{aligned}$$

Şekildeki KL doğrusu üzerinde verilen açılardan kaç tanesi dar açıdır?

- A) 5      B) 6      C) 7      D) 8

2.



Bir kenarı 12 cm olan yukarıdaki ABCD karesindeki taralı bölgenin çevresi 56 cm' dir. **Taralı olmayan bölgenin çevresi kaç cm'dir?**

- A) 20 cm      B) 24 cm  
C) 32 cm      D) 48 cm

3. Bir çıkarma işleminde iki sayının farkı 16'dır. Büyük sayıya 10 eklenip küçük sayıdan 10 çıkarılırsa fark kaç olur?

- A) 10      B) 26      C) 36      D) 46

4. İki basamaklı bir sayının rakamlarının yerleri değiştirildiğinde, elde edilen sayı ile ilk sayı arasındaki farkın onlar basamağı 3 olursa, **birler basamağındaki sayı kaç olur?**

- A) 7      B) 6      C) 5      D) 4

5. Bir bölme işleminde bölen ile bölünenin farkı 51'dir. Bölüm 7, kalan 3 olduğuna göre **bölünen sayı kaçtır?**

- A) 8      B) 56      C) 59      D) 62

6. 7 boş şişe götürenin bir dolu meyve suyu aldığı bakkaldan başlangıçta 43 şişe meyve suyu alan Turgay en fazla kaç şişe meyve suyu alabilir?

- A) 50      B) 49      C) 48      D) 47

7.

$$\begin{array}{r} bcb \\ bcb \\ + bcb \\ \hline 6 \cdot 6 \end{array}$$

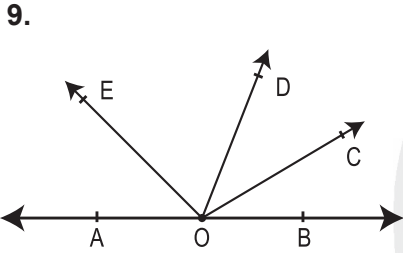
Verilen toplama işleminde "c" nin yerine hangi rakam yazılamaz?

- A) 0      B) 1      C) 3      D) 4

$$\begin{array}{r} A \quad | \quad B \\ \hline \quad \quad | \quad 3 \\ \hline \quad \quad | \quad 12 \end{array} \quad \begin{array}{r} B \quad | \quad 7 \\ \hline \quad \quad | \quad 5 \\ \hline \quad \quad | \quad C \end{array}$$

Yukarıda verilen bölme işlemine göre C'nin en büyük değeri için A kaç olur?

- A) 138      B) 135      C) 129      D) 105



Yukarıdaki şekle göre,  $s(\hat{COE})$  kaç derecedir?

- A) 44      B) 45      C) 48      D) 92

10. I. Çarpımları çifttir.  
II. Toplamları tektir.  
III. Çarpımları tektir.  
IV. Toplamları çifttir.

a, b, c ardışık doğal sayılardır. Buna göre yukarıdakilerden hangisi veya hangileri daima doğrudur?

- A) Yalnız I      B) I ve II  
C) II ve IV      D) I, II, IV

11. a, b ardışık çift rakamlar, c, d, e ardışık tek rakamlardır. Bu rakamlarla oluşturulabilecek en büyük 5 basamaklı çift doğal sayının sayı değerlerinin toplamı, **basamak değerlerinin toplamından kaç eksiktir?**

- A) 98721      B) 98730  
C) 98791      D) 98800

12. Bir kaplumbağa bir günde 6 adım ileri gidip 2 adım geriye gelmektedir. Buna göre en az kaç adım atarsa ilk yerinden 72 adım ileride olur?

- A) 140      B) 144      C) 136      D) 132

Matematik testi bitti.  
Din Kültürü testine geçiniz.

## DİN KÜLTÜRÜ TESTİ

1. Bu bölümde yanıtlayacağınız soru sayısı 12 dir.
2. Cevaplarınızı cevap kağıdınızın **DİN KÜLTÜRÜ** için ayrılan kısmına işaretleyiniz.

## DENEME SINAVI

### 4. SINIF DİN KÜLTÜRÜ SORULARI

1. Hamza ve ailesi büyükbabası ve büyükannesini ziyarete gitmiş ve akşam yemeğini beraber yemişlerdi. Hamza yemeğe ..... diyerek başladı. Yemeklerini afiyetle yedikten sonra ..... diyerek sofradan kalktılar. Biraz oturduktan sonra Hamza ve ailesi, büyükanne ve büyükbabasına ..... diyerek oradan ayrıldılar.

**Yukarıdaki paragrafta boş bırakılan yerlere sırası ile getirilmesi uygun olan kavramlar aşağıdakilerden hangisidir?**

- A) Bismillahirrahmanirrahim - Elhamdülillah Allah'a ismarladık.
- B) Elhamdülillah - Hamd Olsun - Allah'a ismarladık.
- C) Bismillahirrahmanirrahim - Maşaallah - Allah'a ismarladık.
- D) Bismillahirrahmanirrahim - Allah'a ismarladık Elhamdülillah

### 2. Ayça;

- I. Hergün köpeği Karabaş'ı besler.
- II. Annesine ev işlerinde yardım eder.
- III. Arkadaşının sınavdan aldığı yüksek notu kabul edemez.
- IV. Akrabalarını sık sık ziyarete gider.

**Yukarıda, Ayça'nın yapmış olduğu davranışlardan hangileri sevaptır?**

- A) Hepsi
- B) I, II, IV
- C) I, III, IV
- D) II, IV

3. "Eşhedü enlâ ilahe illallah ve eşhedü enne Muhammeden abdûhû ve rasûlûh"

**Yukarıda verilen Kelime-i Şehadetin tam anlamı, aşağıdakilerden hangisinde doğru olarak verilmiştir?**

- A) Allah birdir, Hz. Muhammed O'nun kuludur.
- B) Allah'tan başka ilâh yoktur, Hz. Muhammed O'nun elçisidir.
- C) Ben şahitlik ederim ki Allah'tan başka ilâh yoktur, yine şahitlik ederimki; Hz. Muhammed O'nun kulu ve Rasûlüdür.
- D) Allah'tan başka ilâh yoktur, Hz. Muhammed son peygamberdir.

**4. Ayşe Din Kültürü ve Ahlâk Bilgisi dersinde öğretmenine şu bilgileri anlatmıştır;**

- İnsanları iyiye, güzele ve doğruya çağırmayı amaçlar
- Allah tarafından gönderilmiştir
- İnsanların dünya ve ahirette mutlu olmalarını sağlar.

**Yukarıda Ayşe'nin anlattığı bu kavram aşağıdakilerden hangisidir?**

- A) Selamet
- B) Ahlak
- C) Tevhid
- D) Din

5. Sevgili Peygamberimiz temizlik konusuna çok önem verir ve bizleri de temiz olmamız konusunda uyarırdı.

**Aşağıdaki uygulamalardan hangisi Peygamberimizin yapmış olduğu davranışlardan biri değildir?**

- A) Yemeklerden önce ve sonra ellerini mutlaka yıkardı.
- B) Yerlere tükürülmesine izin verdiği de olmuştur.
- C) Dişlerini her zaman misvakla temizledi.
- D) Elbisesini daima temiz tutardı.

6. Ali arkadaşı Ahmet'e temizlik konusunu anlatıyordu. "Arkadaşım yalan söylememek, dürüst olmak, emanete ihanet etmemek de bir tür temizliktir." **Ali'nin anlattığı temizlik çeşidi aşağıdakilerden hangisidir?**

- A) Maddi Temizlik
- B) Beden Temizliği
- C) Manevi Temizlik
- D) Çevre Temizliği

7. "Söyle Habibim, O Allah bir ve tektir. O'ndan başka ilah yoktur. O doğmamıştır, doğurulmamıştır ..... (İhlas Süresi). **Verilen ayette altı çizili kavram aşağıdakilerden hangisinde doğru olarak verilmiştir?**

- A) Tevhid
- B) Besmele
- C) İman
- D) Ahlâk

8. Pazarcılık yapan Fikret Amca, elmalarını tezgaha dizerken, ön tarafa güzel kırmızı olanları, arka tarafa da çürük ve ezik olanları dizmektedir. Ayşe Teyze elma alırken, elmaların çürük ve bozuk olan kısmından vermiş, içine birkaç tane güzel elma koymuştur. **Fikret Amca'nın bu davranışı aşağıdaki hangi durumu anlatır?**

- A) Ticaret yaparken hile yapılabilir.
- B) İnsanları kandırarak para kazanabiliriz.
- C) Fikret Amca yanlış bir davranış sergileyip günaha girmiştir.
- D) Para kazanmak için ufak tefek günahlar işleyebiliriz.

9. Din Kültürü ve Ahlâk Bilgisi Dersi Öğretmeni dersi anlatırken; "Sevgili çocuklar, Hz. Muhammed ..... tarihinde, ..... şehrinde dünyaya gelmiştir." cümlelerini kullanmıştır. **Öğretmenin cümlelerinde eksik olan yerleri aşağıdakilerden hangisiyle doldurursak doğru olur?**

- A) 12 Eylül 610 - Mekke
- B) 8 Haziran 632 - Medine
- C) 17 Mayıs 572 - Yemen
- D) 20 Nisan 571 - Mekke



10. Hz. Muhammed'in ailesi hakkında aşağıda verilen bilgilerden hangisi doğrudur?

- A) Annesi: Hz. Halime  
Babası: Ebu Talib  
Dedesi: Hz. Abdullah  
Süt Annesi: Hz. Amine
- B) Annesi: Hz. Aişe  
Babası: Hz. Abdullah  
Dedesi: Ebu Bekir  
Süt Annesi: Şeyma
- C) Annesi: Hz. Amine  
Babası: Hz. Abdullah  
Dedesi: Hz. Abdulmuttalib  
Süt Annesi: Hz. Halime
- D) Annesi: Hz. Fatma  
Babası: Abdulmuttalib  
Dedesi: Abdullah  
Süt Annesi: Hz. Aişe

12. I. Annesi tarafından, süt annesi Halime'ye teslim edildi.

- II. Ebu Talib'in himayesine girdi.  
III. Dedesi Abdulmuttalib'i kaybetti.  
IV. Hz. Hatice'yle evlendi.


Peygamberimizin hayatıyla ilgili yukarıda verilen bilgilerin doğru sıralanışı aşağıdaki şıklardan hangisinde verilmiştir?

- A) III-II-I-IV  
B) I-III-II-IV  
C) I-IV-II-III  
D) III-II-IV-I

11. Sevgili Peygamberimiz Hz. Muhammed'in dünyaya geldiği dönemde Arabistan'da pek çok kabile vardı. Bu kabileler arasında sık sık savaşlar çıkar, haklı haksız gözetilmez, kız çocukları diri diri toprağa gömülürdü. Her dinden insan bir arada yaşıyordu.

Aşağıdakilerden hangisi o dönemde Arabistan'da hakim olan dinlerden biri değildir?

- A) Budistlik  
B) Putperestlik  
C) Haniflik  
D) Hristiyanlık



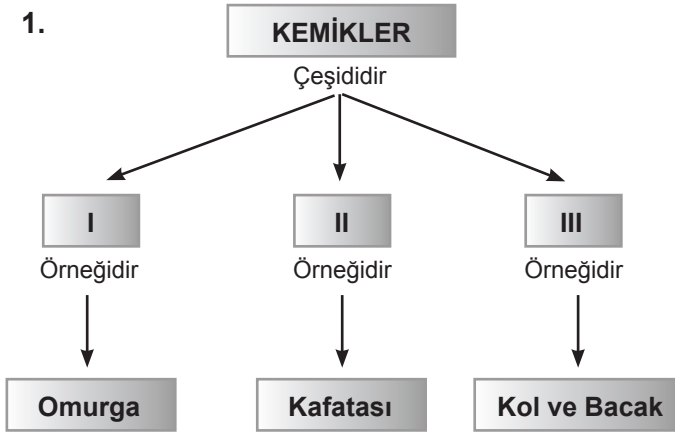
Din Kültürü testi bitti.  
Fen Bilimleri testine geçiniz.

**FEN BİLİMLERİ TESTİ**

1. Bu bölümde yanıtlayacağınız soru sayısı 12 dir.
2. Cevaplarınızı cevap kağıdınızın **FEN BİLİMLERİ** için ayrılan kısmına işaretleyiniz.

**DENEME SINAVI****4. SINIF FEN BİLİMLERİ SORULARI**

1.



Yukarıdaki kavram haritasında I, II, III numaralı boşluklara hangi kemik çeşidi gelmelidir?

- | <u>I</u> | <u>II</u> | <u>III</u> |
|----------|-----------|------------|
| A) Kısa  | Yassı     | Uzun       |
| B) Yassı | Uzun      | Kısa       |
| C) Uzun  | Yassı     | Kısa       |
| D) Kısa  | Uzun      | Yassı      |

2.

**Suda Yüzenler**

Buz  
Sandal  
Metal para  
Mantar tıpa

**Suda Batanlar**

Tahta parçası  
Altın Yüzük  
Taş parçası  
Çivi

Ebru elindeki bazı maddeleri bırakarak sudaki durumlarını inceliyor. Tabloyu oluştururken hata yapıyor.

Buna göre tablodaki hangi maddelerin yerini değiştirirsek tablo doğru olur?

- A) Metal para - Tahta parçası
- B) Metal para - Taş parçası
- C) Buz - Tahta parçası
- D) Mantar tıpa - Çivi

3. Bir X maddesi ile ilgili şu bilgiler veriliyor.

- Akışkan maddedir.
- Bulunduğu kabın şeklini alır.
- Hacmi sabittir.

Buna göre X maddesi aşağıdakilerden hangisi olabilir?

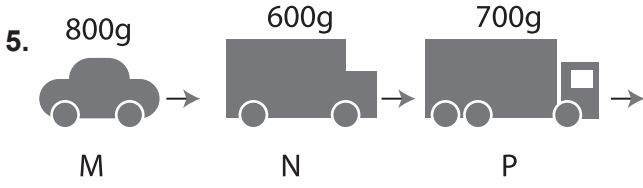
- |          |                 |
|----------|-----------------|
| A) Buz   | B) Oksijen gazı |
| C) Tahta | D) Meyve suyu   |

4. Bir kas kasıldığında boyu .....■....., kalınlığı .....▲.....ve kas .....★.....

Yukarıdaki ifadelerde noktalı yerlere sırasıyla hangi kelimeler gelmelidir?

- | <u>■</u>   | <u>▲</u> | <u>★</u>  |
|------------|----------|-----------|
| A) uzar    | azalır   | yumuşar   |
| B) kısalır | artar    | sertleşir |
| C) uzar    | azalır   | sertleşir |
| D) kısalır | artar    | yumuşar   |





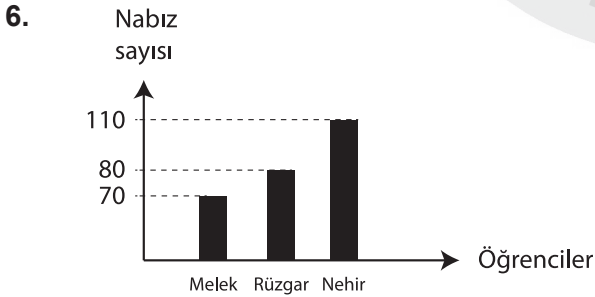
Yukarıda kütleleri belirtilen M, N ve P araçları aynı hızlarla hareket etmektedir. **Buna göre aşağıdaki cümlelerde boş bırakılan yerlere;**

• M aracını durdurmak için uygulanması gereken kuvvet, N aracını durdurmak için uygulanması gereken kuvvetten .....

• N aracını durdurmak için uygulanması gereken kuvvet, P aracını durdurmak için uygulanması gereken kuvvetten .....

**Sırası ile hangi kelimeler yazılırsa iki ifade de yanlış doldurulmuş olur?**

- A) azdır - fazladır  
B) azdır - azdır  
C) fazladır - azdır  
D) fazladır - fazladır



4. sınıfa giden sağlıklı üç öğrencinin bir dakikadaki nabız sayıları grafikteki gibidir.

**Öğrencilerle ilgili olarak aşağıdaki verilenlerden hangisi doğrudur?**

- A) Nehir uyumaktadır.  
B) Melek heyecanlanmıştır.  
C) En hızlı soluk alıp veren Rüzgar'dır.  
D) Nehir egzersiz yapmaktadır.

7. I. Kaslar, lif yapısı nedeniyle kasılıp gevşer.  
II. Kol ve bacaklar yassı kemiklerden oluşmaktadır.  
III. İskelet vücudumuzun dik durmasını sağlar.  
IV. Akciğerler ve kalbimizi koruyan göğüs kafesimizdir.

**Yukarıdaki ifadeleri doğru-yanlış olarak adlandırdığımızda sıralama nasıl olur?**

- A) Y-D-D-Y  
B) D-Y-D-D  
C) Y-D-Y-D  
D) D-Y-Y-D

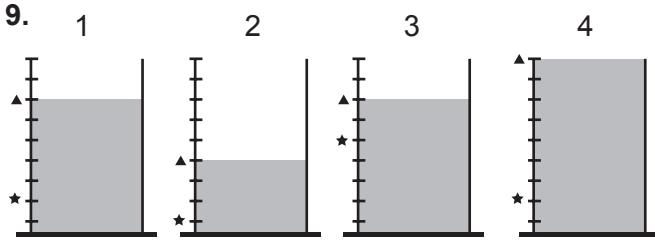
8. 

Bulgur	•	•	Laminant parke
Opak	•	•	Egzersiz
Nabız	•	•	Diyafram
Solunum	•	•	Katı madde

Yukarıda birbiri ile ilgili olan bazı yapı ve olaylar verilmiştir.

**Verilerin birbiri ile doğru eşleştirilmiş şekli aşağıdakilerden hangisidir?**

- A)
- B)
- C)
- D)



Yukarıdaki özdeş dereceli kaplar başlangıçta ★ ile gösterilen seviyelere kadar aynı sıvı ile dolduruluyor. Sonra 1. kaba A, 2. kaba B, 3. kaba C, 4. kaba D katı cisimleri bırakılıyor. Katı cisimlerin bırakılması sonrasında kaplardaki sıvılar ▲ ile gösterilen seviyeye yükseliyor.

Buna göre A, B, C, D maddelerinin hacimlerinin küçükten büyüğe sıralaması aşağıdakilerden hangisindeki gibidir?

- A) D, A, B, C  
C) A, B, C, D

- B) D, C, A, B  
D) C, B, A, D

10.

- ▲ - Yutak  
■ - Soluk borusu  
★ - Gırtlak  
♥ - Burun  
# - Akciğerler

Hücrelerimizde kirlenmiş havanın vücudu terk etmesi gerekir. Kirli havanın vücudumuzdan atılması sırasında yukarıdaki organları doğru sıralayan Ayşe **baştan 3. ve 4. yapı ve organları sırası ile aşağıdakilerden hangisindeki gibi cevaplamıştır?**

- A) ★ ▲  
B) ▲ #  
C) ★ ■  
D) ♥ ★



11. Salatalar, yemekler, pastalar birer karışımdır. Böyle karışımlarda kullanılan malzemeleri tahmin edemeyiz.

D Y

Maddelerin kapladıkları yerin fazla olması kütlelerinin fazla olduğunu göstermez.

Naylon doğal madde, naylon poşet işlenmiş madde örneği olarak verilebilir.

D Y

D Y

2000 kg= 2g

Anıtkabir doğal olayların etkisi ile oluşmuştur.

Maddelerin değişmeyen miktarına kütle denir.

Litre, mililitrenin 1000 katıdır.

D Y D Y D Y D Y D Y D Y

♥ #

● ▢

★ ○

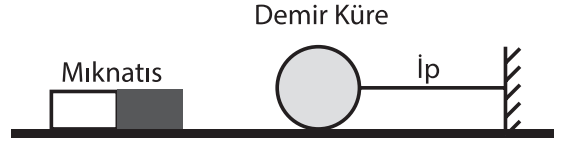
□ △

Yukarıdaki şekilde tanılayıcı dallanmış ağaç tekniğinde her doğru cevap 5 puan, yanlış cevap 0 (sıfır) puandır.

Buna göre, # çıkışına ulaşan Elif, ● çıkışına ulaşan Esra, ★ çıkışına ulaşan Emre, □ çıkışına ulaşan Emir kaç puan alır?

	<u>Elif</u>	<u>Esra</u>	<u>Emre</u>	<u>Emir</u>
A)	10	10	0	15
B)	10	0	10	15
C)	15	0	10	5
D)	0	15	5	10

12.



Sürtünmelerin ihmal edildiği şekildeki düzenekte demir küreye yaklaştırılan mıknatıs, demir küreyi çekiyor ve ip geriliyor.

Buna göre aşağıda verilen;

- 1- Mıknatıs, demir küreye daha fazla yaklaştırılırsa ip daha fazla gerilir.
- 2- Mıknatıs ters çevrilip aynı yerine konursa ip daha fazla gerilir.
- 3- Demir küre yerine daha hafif cam küre konulursa ip daha fazla gerilir.

İfadelerden kaç tanesi doğrudur?

- A) Hiçbiri
- B) 1
- C) 2
- D) 3

Fen Bilimleri testi bitti.  
Sosyal Bilgiler testine geçiniz.

## SOSYAL BİLGİLER TESTİ

1. Bu bölümde yanıtlayacağınız soru sayısı 12 dir.
2. Cevaplarınızı cevap kağıdınızın **SOSYAL BİLGİLER** için ayrılan kısmına işaretleyiniz.

## DENEME SINAVI

### 4. SINIF SOSYAL BİLGİLER SORULARI

1. Atatürk, hem fikir hem de hareket adamıdır. Askerlik, hukuk, tarih, felsefe, eğitim, sanat gibi pek çok alanda görüşlerini açıklamış, yol göstermiş ve uygulamıştır.

**Yukarıda verilen özellikler Atatürk'ün, aşağıdaki hangi yönünü ortaya koymaktadır?**

- A) Mantıklılığını
- B) Eğitimciliğini
- C) İleri görüşlülüğünü
- D) Çok yönlülüğünü

3. İnsanların yaşadığı bölgede görülen bir afet ile bölgenin coğrafi özellikleri arasında bir ilişki vardır.

**Buna göre, aşağıda verilen coğrafi özellik ve doğal afet eşleştirmelerinden hangisi yanlıştır?**

	<u>Coğrafi Özellik</u>	<u>Doğal Afet</u>
A)	Dağlar	Deprem
B)	Su kenarı	Sel
C)	Orman	Yangın
D)	Yamaç	Heyelan

2.



Pelin'in; "Anne bu yaz ülkemizin hangi doğal güzelliğini görmeye gideceğiz?" sorusunu annesi;

"Ayder Yaylası'nı gezmeye ne dersiniz? Hem orada Türkiye'nin en önemli ballarını tatmış oluruz" diyerek cevaplamıştır.

**Buna göre, Pelinler Ayder Yaylası'nı gezmek için haritadaki illerden hangisine gitmelidirler?**

- A) Rize
- B) Nevşehir
- C) İstanbul
- D) Erzincan

4. **Öğretmen:** Yardımlaşma ile ilgili kültürel öğelerimize örnek verir misiniz?

**Onur:** Ramazan ayında maddi durumu iyi olmayanlara kumanya dağıtılması

**Semiha:** Babalarımızın evi geçindirmek için bir işte çalışması

**Latife:** Cenazesi olan eve komşularının yemek götürmesi

**Ceren:** Düğünlerde evlenecek kişilere para veya altın takılması

**Öğretmenin sorusuna hangi öğrenci yanlış cevap vermiştir?**

- A) Onur
- B) Semiha
- C) Latife
- D) Ceren

5. Türkiye haritasına yüzümüzü döndüğümüzde vücudumuzun bazı bölümleriyle eşleşen yönler aşağıda verilmiştir.

Bunlardan hangileri **yanlıştır**?

- I. Sağ kolumuz - Doğu
- II. Sol kolumuz - Batı
- III. Kafamız - Güney
- IV. Ayaklarımız – Kuzey

- A) Yalnız III
- B) I - IV
- C) Yalnız IV
- D) III – IV

7.



Aşağıdaki savaşların hangisinden sonra Mustafa Kemal'e "Gazi" ünvanı ve "Mareşal" rütbesi verilmiştir?

- A) I. İnönü Savaşı
- B) II. İnönü Savaşı
- C) Sakarya Savaşı
- D) Çanakkale Savaşı


- 6.
- I. Samsun'a Çıkış
  - II. TBMM'nin Açılması
  - III. Erzurum Kongresi
  - IV. Amasya Genelgesi
  - V. Mondros Ateşkes Antlaşması

Yukarıda belirtilen olayların kronolojik sıralaması aşağıdaki seçeneklerin hangisinde doğru olarak sıralanmıştır?

- A) II-III-IV-V-I
- B) V-I-IV-III-II
- C) III-II-I-V-IV
- D) II-V-III-I-IV

8. Aşağıdakilerden hangisinde insanların doğrudan etkisi bulunmaktadır?

- A) Günlük hava sıcaklığının artması
- B) Kar yağması
- C) Akarsuların üzerine barajlar yapılması
- D) Depremlerin olması



9. Ayşe öğretmen, öğrencilerinden “Benzer ve Farklı Yönlerim” konusu ile ilgili birer cümle söylemelerini istemiştir. Öğrencilerden gelen cevaplardan sonra seçtiği 6 cümleyi tahtaya yazmıştır.

**Bunlar;**

- I. Her insan bir bireydir.
- II. Tüm insanlar birbirlerine benzerler.
- III. Tek yumurta ikizlerinde dahi parmak izi farklıdır.
- IV. İnsanların farklı özellikleri olduğu gibi benzer özellikleri de vardır.
- V. İnsanların farklılıklarına saygı göstermeliyiz.
- VI. Tüm insanların duygusal özellikleri aynıdır.

**Kaç numaralı cümle yada cümleler doğrudur ?**

- A) I, III, V
- B) I, II, V
- C) I, III, IV, V
- D) III

10. Cömertlik ve yardım etmede akarsu gibi ol.  
Şefkat ve merhamette güneş gibi ol.  
Başkasının kusurunu örtmede gece gibi ol.  
Hoşgörülülükte deniz gibi ol.  
Ya olduğun gibi görün, ya görüdüğün gibi ol.

**Ünlü Türk büyüğü Mevlana’ nın yukarıdaki dizelerinden hangisi çıkarılamaz?**

- A) Farklılıklara anlayışlı olmalıyız.
- B) Saygılı ve hoşgörülü olmalıyız.
- C) Yardımlaşma ve dayanışmadan kaçınmamalıyız.
- D) Duygu ve davranışlarımız aynı olmayabilir.

11. Melih arkadaşının doğum günü için bir hediye mağazasına gider. Melih uzaktan kumandalı güzel bir araba beğenir. Ancak birden arkadaşının arabalardan değil yapboz türü oyunlardan hoşlandığını hatırlar. Hemen kumandalı arabayı bırakıp yapboz türü bir oyuncak satın alır.

**Yukarıdaki paragrafa göre Melih ile ilgili olarak hangisi doğrudur ?**

- A) Melih, arkadaşını sevmemektedir.
- B) Melih, yapboz oyunlarını çok sever.
- C) Arkadaşının oyuncak zevkinin kendisinden farklı olduğunu bilir ve ona uygun hediye alır.
- D) Arkadaşı için kendi sevdiği oyuncak türünden bir hediye alır

12. İki Mustafa Kemal vardır. Biri ben; et ve kemik, geçici Mustafa Kemal. İkinci Mustafa Kemal, onu “ben” kelimesiyle ifade edemem; o ben değil, bizdir! O, memleketin her köşesinde yeni bir fikir, yeni bir hayat ve büyük ülkü için uğraşan aydın ve mücadeleci bir topluluktur. Ben onların rüyasını temsil ediyorum. Geçici olmayan, yaşaması ve başarılı olması gereken Mustafa Kemal O’dur.

**Mustafa Kemal’in yukarıdaki sözü daha çok onun aşağıdakilerden hangisine olan düşkünlüğünü yansıtmaktadır?**

- A) Vatan sevgisine
- B) Millet sevgisine
- C) Bağımsızlığa
- D) Barışa

Sosyal Bilgiler testi bitti.

İngilizce testine geçiniz.





## İNGİLİZCE TESTİ

1. Bu bölümde yanıtlayacağınız soru sayısı 12 dir.
2. Cevaplarınızı cevap kağıdınızın **İNGİLİZCE** için ayrılan kısmına işaretleyiniz.

## DENEME SINAVI

### 4. SINIF İNGİLİZCE SORULARI

1. Aşağıda verilen diyalogu uygun bir şekilde tamamlayan ifadeyi bulunuz.

George:

- Excuse me. It's very dark here. ....?

Mary:

- Yes, you may.

- A) Can I turn off the lights
- B) May I open the door
- C) Can I close the door
- D) May I turn on the lights

2. Aşağıda verilen cümleyi tamamlayan ifade seçeneklerden hangisi olamaz.

I've got .....in my school bag.

- A) a paperclip, scissors and three pencils
- B) a pencil sharpener, a pencil and two pens
- C) seven notebooks, a ruler and three boards
- D) two paint brushes, three pencils and a pen

3. Aşağıdaki cümlelerin hangisinde hatalı bir ifade vardır.

- A) The sharpener over there is mine sharpener.
- B) That's my sister's flower. It's hers.
- C) Mark is my best friend.
- D) This coloring book is yours.

4-6. Soruları verilen okuma parçasına göre cevaplayınız.

Hello, my name is Lucy. I'm 15 years old. I'm from France. France is in Europe. Its flag is white, blue and red. Clara is my best friend. She is 15, too. She is Greek. The flag of Greece is white and blue. We go to the same school. I love her very much and I think she loves me, too.

4. Where is Lucy's best friend from?

- A) She is Greek.
- B) She's from Greece.
- C) She is from France.
- D) She is French.

5. What nationality is Lucy?

- A) She is French.
- B) She is Greek.
- C) She is from Greece.
- D) She is from France.

6. Lucy seçeneklerde verilenlerden hangisinden bahsetmemiştir?

- A) Her age
- B) Her country
- C) The flag of her best friend's country
- D) Her favourite color

7. Aşağıdakilerden hangisi 'have' eylemi ile kullanılmaz.

- A) a shower
- B) lunch
- C) shopping
- D) an exam

8-11 Soruları verilen okuma parçasına göre cevaplayınız.

Dear Jennifer,

My name is James Anderson. I'm thirteen years old. I'm from Egypt. I have two brothers and three sisters. I (8) ..... playing the guitar, (9) ..... photos, (10) ..... rope and watching cartoons. Can you (11) ..... me as soon as possible?

Best wishes  
James

- 8.
- A) do
  - B) like
  - C) listen
  - D) make

- 9.
- A) taking
  - B) making
  - C) studying
  - D) thinking

- 10.
- A) playing
  - B) riding
  - C) skipping
  - D) learning

- 11.
- A) teach
  - B) write
  - C) tell
  - D) see

12. Paragrafta numaralandırılmış cümlelerin hangisi anlatım akışını bozmaktadır.

I wake up at eight o'clock in the morning. (I) I have breakfast at half past eight. (II) I go taking pictures at quarter past nine. (III) I brush my teeth and leave home at nine o'clock. (IV) I arrive at school at half past nine.

- A) I
- B) II
- C) III
- D) IV

