

TÜRKÇE TESTİ

1. Bu bölümde yanıtlayacağınız soru sayısı 12 dir.
2. Cevaplarınızı cevap kağıdınızın TÜRKÇE için ayrılan kısmına işaretleyiniz.

DENEME SINAVI

3.SINIF TÜRKÇE SORULARI

Martı Jonathan, kumsaldaki sürüye katıldığında neredeyse gece yarısı olmuştu.Yorgunluktan perişan bir haldeydi ama yine de bir takla atarak inişe geçti ve bir tüy gibi süzülerek keyifle kumsala indi.”Diğer martılar başardığım şeyi duyduklarında zevkten çılgına dönecekler .”diye düşündü.”Yaşamak için ne çok neden var!”

(İlk iki soruyu yukarıdaki metne göre cevaplayınız)

2. Martı Jonathan neyi düşünüyor?


- A) Diğer martıların onun sürüye katıldığını duyduklarında sevineceklerini.
- B) Yorgunluktan perişan halde olduğundan üzüleceklerini.
- C) Onun başardığı şeyleri duyduklarında mutlu olacaklarını.

1. Martı Jonathan nereye iniş yapıyor?

- A) Sakin bir yere iniş yapıyor.
- B) Kumsala iniş yapıyor.
- C) Evinin olduğu yere iniş yapıyor.

3. Alfabemizde yer alan, tek başına hece olup aynı zamanda da ince olan ünlüler hangisidir?

- A) e, i, ö, ü
- B) e, o, ü, ı
- C) a, i, u, ö




4. Aşağıdaki kelimelerden hangisinin yazımı doğru değildir?

- A) Yanlış
- B) Yanlız
- C) Herkes

6. Aşağıdaki eşleştirmelerden kaç numaralı sözcük karşıt anlamlı değildir?

- A) Esaret-özgürlük
- B) Korkak-cesur
- C) Akıllı-akılsız



5. "El" sözcüğü hangi cümlede farklı anlamda kullanılmıştır?

- A) El için ağlayan gözden olur.
- B) El kazanı ile aş kaynamaz.
- C) El terazi, göz mizan.

7. "Sivas'ın Suşehri ilçesinden yola çıkıp Kızılırmak boyunca ilerlediğimizde doğanın bize sunduğu güzelliklere hayran olduk." cümlesindeki altı çizili sözcükler yapı yönünden nasıl sözcüklerdir?


- A) Birleşik
- B) Türemiş
- C) Basit

8. Aşağıdaki cümlelerde altı çizili sözcüklerden hangisi gerçek anlamda kullanılmamıştır?

- A) Arkadaşı ona ağır sözler söylemişti.
- B) Utku sıcaktan çok bunalmıştı.
- C) Ömer masanın üzerinde kitaplarını unutmuş.

10. “Atatürk, Birinci Dünya Savaşı ile ilgili önsözleriyle savaşın aleyhimize sona ereceğini görmüş ve alacağı tedbirleri düşünmüştür.”
cümlesinde anlatılmak istenen aşağıdakilerden hangisidir?

- A) Atatürk'ün iyi niyetli olması
- B) Atatürk'ün ileri görüşlü olması
- C) Atatürk'ün çalışkan olması



9. “Dostumuzun bizi hırpalaması gücümüze gitmez çünkü bunun iyi niyetle yapıldığını biliriz.”
anlamına gelen atasözü aşağıdakilerden hangisidir?

- A) Dost kara günde belli olur.
- B) Dostun attığı taş, baş yarmaz.
- C) Dost ile ye, iç; alışveriş etme.

11. “GÜVENMEK” kelimesinin alfabemizdeki rakamsal harf sıralaması aşağıdakilerden hangisidir?


- A) 9- 25- 27- 6- 16- 16- 6- 4
- B) 8- 26 - 25- 8- 16- 17- 6- 4
- C) 8- 26- 27- 6- 17- 16- 6- 14

12.


OKUL	MEKTUP	DOSTLUK
KALEM	YAPIT	KİTAP

Yukarıdaki sözlük tablosundan, sesli harflerin tamamı kalın olan sözcükler çıkarıldığında, tablonun yeni görünümü nasıl olur?

- A) B) C)



Türkçe testi bitti.
Matematik testine geçiniz.



MATEMATİK TESTİ

1. Bu bölümde yanıtlayacağınız soru sayısı 12 dir.
2. Cevaplarınızı cevap kağıdınızın MATEMATİK için ayrılan kısmına işaretleyiniz.

DENEME SINAVI

3. SINIF MATEMATİK SORULARI

1. Çevresi 36 cm olan iki kare yan yana ekleniyor.
Oluşan yeni şeklin çevresi kaç cm'dir?

- A) 63 B) 54 C) 72

3. 16 öğrenci arka arkaya tek sıra oluyorlar. Adem baştan 3. sıradadır. Adem ile Eren arasında 7 kişi olduğuna göre **aşağıdakilerden hangisi doğrudur?**


- A) Adem'in sıra sayısı sondan sayıldığında tek sayıdır.
B) Eren'in sıra sayısı sondan sayıldığında çift sayıdır.
C) Eren baştan 10 sıradadır.

2. "0 ,3, 6" rakamları ile yazılabilecek rakamları farklı en büyük ve en küçük üç basamaklı doğal sayıların toplamı **600'den kaç fazladır?**

- A) 336 B) 245 C) 66

4. 67 sayısının onlar basamağına 2 ekleyip, birler basamağından 5 çıkarırsak **elde ettiğimiz yeni sayı ilk sayıdan kaç fazla olur?**

- A) 82 B) 48 C) 15




5. Hasan test kitabının önce 20 sorusunu sonra da 40 sorusunu çözüyor. Çözdüğü soruları kontrol ettiğinde 15 soruyu yanlış çözdüğünü fark ediyor. Bu soruları tekrar çözmeye karar veriyor.

Hasan'ın çözmesi gereken 60 sorusu daha olduğuna göre kitabında kaç soru vardır?

- A) 105 B) 120 C) 135

7. 115'ten büyük rakamları farklı en küçük doğal sayı ile 115'ten küçük rakamları farklı en büyük doğal sayının toplamı bu iki sayının farkından kaç fazladır?

- A) 229 B) 218 C) 11



6. Körfezim İlkokulu 4 katlı, her katta 6 sınıf bulunmaktadır. Her sınıfta 15 şer öğrenci olduğuna göre, okulda toplam kaç öğrenci vardır?

- A) 144 B) 240 C) 360

8. EYLEM → 89381
AYLİN → 29354
NİLAY → 45329
MASUM → 12671

Yukarıda sol taraftaki dört kelime sağ taraftaki dört sayı ile şifrelenmiştir. Her harf bir rakam ile şifrelendiğine göre, **SANAYİ** sözcüğüne karşılık gelen sayı aşağıdakilerden hangisidir?

- A) 623239 B) 627274 C) 624295

9. Eda Öğretmen pişireceği yumurtaları tam 8 dakika kaynatmak istiyor. Ocağı yaktığı andan itibaren 2 ve 5 dakikalık **kum saatlerini en az kaç defa kullanarak bu işi başarabilir?**

- A) 1 B) 2 C) 4

11. Sinekli Bakkal, tanesini 50 kuruş'a aldığı çikolataları 25 kuruş zamla satmaktadır. Günde 8 tane çikolata satan bakkalın **bu satıştan 4 günde eline kaç TL geçer?**

- A) 24 B) 60 C) 40

12. Dört tane doğru açının toplamı, **kaç tane dik açı eder?**

- A) 12 B) 10 C) 8

10. 3, 5, 8 sayıları kullanılarak yazılabilecek rakamları farklı üç basamaklı doğal sayıları büyükten küçüğe sıraladığımızda **baştan dördüncü sayı kaçtır?**

- A) 538 B) 583 C) 835

Matematik testi bitti.
Fen Bilimleri testine geçiniz.

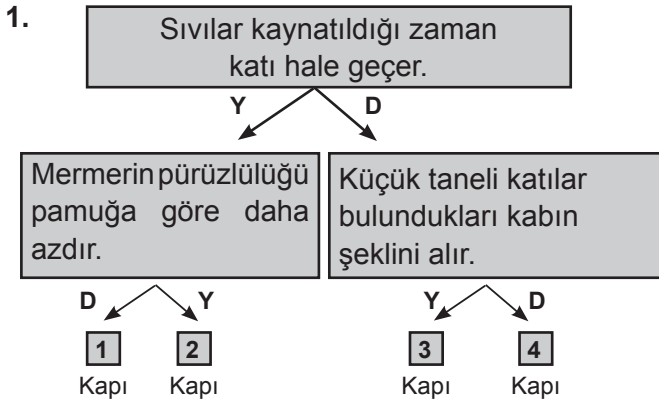


FEN BİLİMLERİ TESTİ

1. Bu bölümde yanıtlayacağınız soru sayısı 12 dir.
2. Cevaplarınızı cevap kağıdınızın **FEN BİLİMLERİ** için ayrılan kısmına işaretleyiniz.

DENEME SINAVI

3. SINIF FEN BİLİMLERİ SORULARI



Yukarıda dallanmış ağaç modeli verilmiştir. Doğru (D) veya yanlış (Y) ları takip eden Eren aşağıdaki kapılardan hangisinden çıkış yaparsa doğru yapmış olur?

- A) 4. Kapı
- B) 2. Kapı
- C) 1. Kapı




3. Katı maddeler buldukları kabın veya yerin şeklini almazlar.

Aşağıdakilerden hangisi **katı madde** örneği değildir?

- A) Bulgur
- B) Masa
- C) Üzüm sirkesi

2. Hakan bahçede oyun oynarken yeni açan gülleri fark eder. Bir tanesini koklamak için güllerin yanına giderken annesi evden çağırır ve eve gider.

Yukarıdaki bilgiye göre hangi çocuğun söylediği **doğru değildir**?

- A)  Hakan koku alma duyu organını kullanmıştır.
- B)  Hakan görme duyu organını kullanmıştır.
- C)  Hakan işitme duyu organını kullanmıştır.

4. Furkan öğretmen sınıfta maddelere uygulanan kuvvet sonucu madde de değişimler olduğunu gösteren bir deney yapıyor. Yaptığı deneyde bazı maddeler kuvvet uygulandığında şekil değiştiriyor ve uygulanan kuvvet ortadan kaldırıldığında eski halini geri alıyor.

Bu bilgiye göre Furkan öğretmenin yaptığı deneyde aşağıdaki nesnelere hangisi **eski haline dönmüştür**?

- A) Bulaşık süngeri
- B) Oyun hamuru
- C) Cam bardak

5. Yapay ışık kaynaklarına ve örnek verilebilirken, doğal ışık kaynaklarına örnek verilebilir.

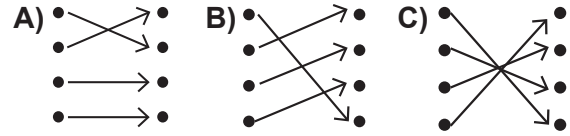
Buna göre, boş bırakılan yerlere sırasıyla aşağıdakilerden hangileri getirilebilir?

- A) güneş, mum, fener
B) mum, fener, ay
C) mum, fener, ateş böceği

7.

Kulak	•	•	Nefes alma
Burun	•	•	Nesnelerin sıcaklıklarını algılama
Deri	•	•	Varlıkların şekillerini bilmemize yardımcı olur
Göz	•	•	Dengemizin sağlanması

Yukarıda duyu organları ve bazı görevleri verilmiştir. Bu eşleşmelerin doğru yapılmış şekli aşağıdakilerden hangisinde verilmiştir?



6. Günlük yaşamda görme engelli birçok kimse okuyup akademik kariyer yapmaktadır. Mustafa Bey bunlardan birtanesidir.

Mustafa Bey hangi duyu organını daha çok kullanarak akademik kariyeri yapmıştır?

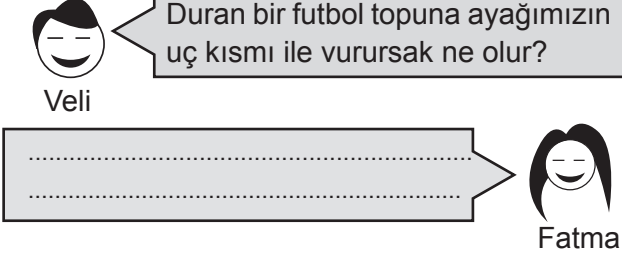
- A) Göz
B) Dil
C) Deri

8. Kırılgan, pürüzsüz ve kokusuzdur.
 Esnek ve kokusuzdur.
 Sert, pürüzlü ve kokuludur.

Yukarıda bazı maddelere ait özellikler verilmiştir. Bu maddeler aşağıda verilenlerden hangileridir?

- | | | |
|-----------------------|-----------------------------|--------------------------|
| <input type="radio"/> | <input type="triangle-up"/> | <input type="checkbox"/> |
| A) Ayna | Naylon Poşet | Bulaşık Süngeri |
| B) Cam | Paket Lastiği | Portakal |
| C) Karton Kağıt | Metal Tel | Mandalina |

9.



Veli'nin sorusuna Fatma hangi cevabı verirse doğru olur?

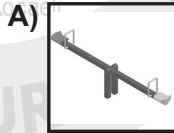
- A) Futbol topu kendimizden uzaklaşır.
- B) Futbol topu kendimize yaklaşır.
- C) Futbol topu durmaya devam eder.

- 11. Eğik düzlemde inen pinpon topu yön değiştirme hareketi yapar.
- Hamakta sallanan kişi dönme hareketi yapar.
- Kırmızı ışığa yaklaşan belediye otobüsü yavaşlama hareketi yapar.

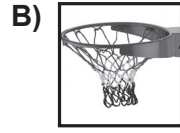
Yukarıda verilenlerin doğru (D) ya da yanlış (Y) sıralaması hangisinde sırasıyla verilmiştir?

- A) Y, Y, D
- B) Y, D, Y
- C) D, Y, D

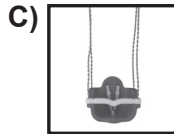
12. Aşağıdaki resimlerden hangisinde hareket etme özelliği bulunmayan nesne verilmiştir ?



Tahterevalli



Basket Potası




Salıncak

10. I. Işığın olmadığı yerde görme olayı gerçekleşmez.
II. Güneş ve ay doğal ışık kaynağıdır.
III. Işık kaynakları etrafına ısıda yayabilir.

Yukarıda verilen yargılardan hangisi veya hangileri doğrudur?

- A) I ve II
- B) I ve III
- C) I, II ve III

Fen Bilimleri testi bitti.
Hayat Bilgisi testine geçiniz.



HAYAT BİLGİSİ TESTİ

1. Bu bölümde yanıtlayacağınız soru sayısı 12 dir.
2. Cevaplarınızı cevap kağıdınızın Hayat Bilgisi için ayrılan kısmına işaretleyiniz.

DENEME SINAVI

3. SINIF HAYAT BİLGİSİ SORULARI

1.



“Atatürk, annesinden gizli gizli sınavlara hazırlanıyordu. Annesini üzmemek için bu isteğini ona söylemiyordu. Bir yandan da sınavı kazanırsa annesini üzmeden bunu ona nasıl söyleyeceğini düşünüyordu.”

Yukarıdaki metinde Atatürk hangi okulu kazanmak için sınava hazırlanmaktadır?

- A) Selanik Askeri Rüştiyesi
- B) Manastır Askeri İdadisi
- C) Selanik Mülkiye Rüştiyesi

3.



Damla, ailesine haftalık mutfak alışverişini tek başına yapabileceğini söyler. Bu görevi üstlenmek için ısrar eder. Aile bireyleri de bu görevin onun yaşı için uygun olmadığını söylerler.

Damla'nın ailesi için aşağıdakilerden hangisi doğrudur?

- A) Görev paylaşımını adil olarak yaparlar.
- B) Görev dağılımını babası yapar.
- C) Herkes istediği görevi üstlenebilir.

2. İletişim, iletilen bilginin hem gönderici hem de alıcı tarafından anlaşıldığı ortamda bilginin bir göndericiden bir alıcıya aktarılma sürecidir. Organizmaların çeşitli yöntemlerle bilgi alışverişi yapmalarına olanak tanıyan bir süreçtir.

İletişim kurmakla ilgili aşağıdakilerden hangisi yanlıştır?

- A) Duyu organları ile iletişim kurulabilir.
- B) Sözsüz iletişim, sadece yazarak kurulan iletişimidir.
- C) İletişim, sözlü ve sözsüz olmak üzere ikiye ayrılır.

4. Aşağıda “Sorun Çözme” basamakları karışık bir şekilde verilmiştir.

- I. Değişik çözüm yollarını düşünmek
- II. Çözüm yolunu uygulamak
- III. Sorunu tespit etmek
- IV. Uygun çözüm yolunu seçmek

Seçeneklerin hangisinde sıralama doğru bir şekilde yazılmıştır?

- A) III-I-IV-II
- B) II-III-I-IV
- C) IV-II-III-I

5. Atatürk'ün gittiği okullar:

- I. Selanik Askeri Rüştiyesi
- II. Manastır Askeri İdadisi
- III. Mahalle Mektebi
- IV. İstanbul Harp Akademisi
- V. Şemsi Efendi Okulu

Doğru sıralama aşağıdakilerden hangisidir?

- A) III-V-I-II-IV
- B) I-II-IV- III-V
- C) III-IV-I-II-V

7. Aşağıdakilerden hangisi Türkiye'nin batı yönündeki komşularından biridir?

- A) Kuzey Kıbrıs Türk Cumhuriyeti
- B) Yunanistan
- C) Gürcistan

6. Sezen, aile albümünü incelemiş. Eskiden babasının saçlarının siyah olduğunu, şimdi ise saçlarının beyazladığını fark etmiş.


Bu durumla ilgili aşağıdakilerden hangisi doğrudur?

- A) İnsanlar zamanla daha genç görünebilirler.
- B) Zamanla insanların özellikleri değişebilir.
- C) Meslek sahibi olmak insanları yaşlandırabilir.

8. Bir kaza anında yapılması gerekenleri oluş sırasına göre dizersek, harflerle hangi sözcük oluşur?

- R- Yardım Çağır
- A- İlk Müdahale
- S- Sakin olup çevreyi boşalt
- I- Hastanede ilk yardım

- A) ASIR
- B) SARI
- C) SIRA



9. Kurtuluş Savaşı'nda milletimiz Atatürk'ün önderliğinde yurdumuzu düşmanlardan kurtardı. Kurtuluş Savaşı'ndaki önemli olayların yıl dönümleri yurdumuzda her yıl milli bayram olarak kutlanır.

Aşağıda ulusça kutladığımız milli bayramlarımızı oluş sırasına göre sıralarsak en sondan bir önceki bayramımız hangisi olur?

- I. Cumhuriyet Bayramı
- II. Ulusal Egemenlik ve Çocuk Bayramı
- III. Atatürk'ü Anma Gençlik ve Spor Bayramı
- IV. Zafer Bayramı

- A) II
B) I
C) IV

10. Bir yüzlük, bir onluk ve iki birlikten oluşan sayı hangi acil durumda aranması gereken bir telefon numarasındır?

- A) Acil durumlarda, kazalarda yardım çağırma
B) Orman Yangınlarında
C) Evimize hırsız girdiğinde

11.



Görselde bir yerin krokisi verilmiştir. Buradaki krokiye göre aşağıdakilerden hangisi yanlıştır?

- A) Manav, otoparkın güneyinde yer almaktadır.
B) Eczane, sağlık ocağının kuzeybatısında yer almaktadır.
C) Evimiz sahil yolunun kuzeyinde kuzeyindedir.

12. T.S.E nin açılışı aşağıdakilerden hangisinde doğru verilmiştir?

- A) Türkiye Spor Elçiliği
B) Türk Standartları Enstitüsü
C) Türk Sanayi Evi

Hayat Bilgisi testi bitti.
İngilizce testine geçiniz.



İNGİLİZCE TESTİ

1. Bu bölümde yanıtlayacağınız soru sayısı 12 dir.
2. Cevaplarınızı cevap kağıdınızın İNGİLİZCE için ayrılan kısmına işaretleyiniz.

DENEME SINAVI 3. SINIF İNGİLİZCE SORULARI

1, 2, 3. sorularda verilen diyalogları tamamlayan uygun ifadeleri işaretleyiniz.

1. **John:** Hello! What's your name?
Robert: Hi! My name is Robert.
John: Sorry, can you your name, please?
Robert: It's R-O-B-E-R-T.

- A) listen B) spin C) spell

3. **Sue:** Hey Jane! Is this your new t-shirt?
Jane: Yes it is.
Sue:?
Jane: It's blue.

- A) How is your jacket?
B) What is it?
C) What colour is it?

4 ve 5. Soruları aşağıdaki parçaya göre cevaplayınız.

Hello! My name is Henry. There are four people in my family. My mother's name is Suzy. She has blonde hair and blue eyes. My sister's name is Ella. She has brown hair and brown eyes. My aunt's name is Lily. She has dark hair and green eyes.

2. **John:** How many pencils are there in a dozen?
Sally:

- A) There are eleven pencils.
B) There are twelve pencils.
C) There are thirteen pencils.

4. Who is Lily?

- A) She's Henry's mother.
B) She's Henry's sister.
C) She's Henry's aunt.

5. What's Suzy like?


- A) She has blonde hair and blue eyes.
- B) She has dark hair and green eyes.
- C) She has brown hair and brown eyes.

7. Aşağıda verilen diyalogu tamamlayınız.

A:..... a turtle run fast?

B: No, it

- A) Is/isn't
- B) Can/can't
- C) Does/can't



6. Boşluğa uygun düşen ifadeyi işaretleyiniz

My grandmother's name is Elizabeth. She has grey hair and blue eyes. She is 80 years old. She is



- A) young
- B) old
- C) fat

8. Soruya uygun cevabı işaretleyiniz.

What's Amy doing?

- A) She's reading a book.
- B) She's playing hopscotch.
- C) She's skipping rope.




9. Verilen kelimelerle kurallı bir cümle oluşturulduğunda son kelime hangisi olur?

a	song	sing	can	he
---	------	------	-----	----

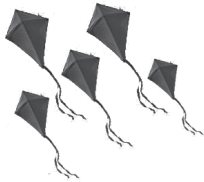
- A) he B) sing C) song

11. Aşağıdaki kelimeler gruplandırıldığında hangisi dışarıda kalır?

- A) eagle
B) kite
C) owl




10. Aşağıdaki resme göre Jack hangi seçenekteki cümleyi söylemiş olabilir?



Jack:

- A) I have got five kites.
B) I have got five balls.
C) I have got five dolls.

12. Resimlerin doğru sıralaması aşağıdakilerden hangisinde verilmiştir?



Jack Liz

- A) Jack is sad and Liz is angry.
B) Jack is happy but Liz is sad.
C) Liz is hungry and Jack is thirsty.