

Öğrenci  
Adı :  
Soyadı :

### TÜRKÇE TESTİ

- Bu testte toplam 12 soru vardır.
- Cevaplarınızı optik formun Türkçe kısmına işaretleyiniz.
- Bu test için önerilen süre 12 dakikadır.

1. Aşağıdakilerin hangisinde çekimli fiil farklı bir anlam özelliğinde kullanılmıştır?

- A) Bütün gece uyumayıp oturmuş.  
B) Daha önce hiç gitmemiş o parka.  
C) İlk defa görüyor gün doğuşunu.  
D) İkinci serinliği çöker avluya.

2. Aşağıdaki cümlelerin hangisinde istek kipinin olumsuz üçüncü çoğul şahsıyla çekimlenmiş bir eylem vardır?

- A) Bahçedeki tavukları beslemesinler.  
B) Ah, buraya bir gelmeyeler!  
C) Onun yaptıklarını hiç görmezler.  
D) Bidonları doldurmasalar da olur.

3. Aşağıdaki cümlelerden hangisinde birinci cümle ikincisinin nedeni durumundadır?

- A) Bu sabah apar topar hastaneye kaldırmışlar, çamaşır asarken bayılmış.  
B) Dışarıdaki öğrencilerin hepsiyle görüştüm, şimdi sıra sınıftakilerde.  
C) Serçeler kiraz ağacının dalına kondular, başladılar ötüşmeye.  
D) Son günlerde durmaksızın çalışıyor, kendini çok yoruyordu.

4. Gâh eserim yeller gibi  
Gâh tozarım yollar gibi  
Gâh akarım seller gibi  
Gel gör beni aşk neyledi

Yukarıdaki dördlükteki benzetmelerde benzetme yönünü karşılayan sözcükler aşağıdakilerden hangileridir?

- A) ak-toz-sel  
B) es-toz-ak  
C) gah-aşk-gibi  
D) yel-yol-sel

5. 1. Meseleyi büyütüp sıkıntıya girmek gereksizdir.

2. Bir kişinin tutum ve davranışları o kişide eksiklikler bulunduğunu gösterir.

3. Çıkarına düşkün kimselerin arkadaşlığı işi bitinceye kadardır.

Aşağıdakilerden hangisi, yukarıda açıklaması verilen atasözlerinden biri değildir?

- A) Abdalın karnı doyunca gözü pabucundadır.  
B) Ağzı eğri, gözü şaşu ensesinden belli olur.  
C) Ağlayıp da gözden mi olayım?  
D) Bir başa bir göz yeter.

1. Ekmekle tuz olsun yeter ki sen ver.  
2. Bir kuş dirilsinki küllerimizden.  
3. Meğerki ne güzel günlermiş.  
4. Baktımki sen gideli yıllar olmuş.

6. Yukarıdaki cümlelerin hangilerinde yazım yanlışı yapılmamıştır?

- A) 3-1 B) 4-3 C) 4-1 D) 2-1

7. Sen gül dalında gonca  
Ben dağ yolunda yonca  
Sen açılıp gülersin  
Ben sararıp solunca

Yukarıdaki dördlükte kullanılan söz sanatları aşağıdakilerin hangisinde doğru verilmiştir?

- A) Kişileştirme-Benzetme  
B) Kişileştirme-Abartma  
C) Benzetme-Abartma  
D) Benzetme-Tezat



8. Ben orada öldüm en çok orada bilmezsin  
Orada zaman buruşmuş bir eski resimdi  
Orada sen yoktun, gözlerin belli belirsiz  
Koptum oradan, bir kırık heykelim şimdi

**Yukarıdaki dördlük için aşağıdakilerden hangisi söylenemez?**

- A) Benzetmelerden yararlanılmıştır.  
B) İsim çekim ekleri kullanılmamıştır.  
C) Çekimli fiillerin hepsi zaman anlamı taşımaktadır.  
D) İkileme kullanılmıştır.

9. "Ne toplum için beslediğim hayırlı niyetleri ne de sanatı feda ederim." **diyen birinin aşağıdakilerden hangisini söylemesi beklenir?**

- A) Eserim sanatsal güzelliği yakaladıktan sonra varsın kimseye hayrı dokunmasın.  
B) İnsanlara yararı olmayan bir eser güzel olmuş ne fayda?  
C) Sanat yararlı olmak için değil güzel olmak için vardır.  
D) Bir eser yararlı ve güzel olursa sanat eseri niteliği taşır.

10. O bir hukukçu değildir, bir iktisatçı hele hiç! Ama o iki meslekten olanlardan daha çok yurdunun sorunlarına, insanın dertlerine ve kişiliklerine eğilmesini, bakmasını ve görmesini bilmiştir.

**Yukarıdaki paragrafta anlatılan kişi için en uygun nitelendirme aşağıdakilerden hangisidir?**

- A) Duyarlı  
B) Kararlı  
C) Çalışkan  
D) Cesur

11. Bir yelkenli yarışına; Ahmet, Aras, Batu, Tuğra, Ömer, Baybars, Deniz katılmıştır. Yarışma sonucunda elde ettikleri sıralamalar şöyledir:

- Yarışmada birinci olan ne Batu ne Ömer'dir.
- Yarışmayı Deniz'den hemen sonra bitiren kişi Tuğra'dır.
- Tuğra yarışmayı 5.sırada tamamlamıştır.
- Ahmet ile Tuğra arasında yarışmayı 2 kişi tamamlamıştır.
- Ömer yarışmayı Aras'tan hemen önce tamamlamıştır.

**Ömer yarışmayı Aras'tan hemen önce tamamlamışsa Batu ile ilgili hangisi yanlıştır?**

- A) Yarışmayı Batu 3. bitirmiştir.  
B) Yarışmayı Batu Ahmet'ten sonra bitirmiştir.  
C) Yarışmayı Batu Tuğra'dan hemen sonra bitirmiştir.  
D) Batu ile Ömer arasında iki kişi vardır.

12. Yazmaya yeni başlayan bir hikâyeci, hikâyelerini okutmak için en sevdiği yazarı bulur. Nefesini tutmuş, yazarın ne söyleyeceğini bekler. Yazar hikâyeciye "Yazmaktan vazgeçme" der ve sonra "Benim hangi kitaplarımı okudun?" diye sorar. Hikâyeci şaşırır ve teessüf edercesine "Hepsini üstat, hepsini okudum." der. Yazar, hikâyecinin gözlerinin içine bakar ve "Artık beni okuma." der. "Hiç okuma."

**Yukarıdaki parçanın ana düşüncesi aşağıdakilerden hangisidir?**

- A) Yazmaya yeni başlayan kişiler, kendilerine örnek alacakları bir yazar seçmelidir.  
B) Bir yazar, örnek aldığı kişinin bütün eserlerini okumalıdır.  
C) Her yazar kendine özgü olmalıdır.  
D) Yazarlar, kendilerinden önceki yazarlardan etkilenmelidir.

**SOSYAL BİLGİLER TESTİ**

- Bu testte toplam 12 soru vardır.
- Cevaplarınızı optik formun Sosyal Bilgiler kısmına işaretleyiniz
- Bu test için önerilen süre 12 dakikadır.

1.



Genel İzleyici Kitle



7 Yaş ve Üzeri için



13 Yaş ve Üzeri için



Şiddet / Korku



Olumsuz örnek oluşturabilecek davranışlar

**Öğrenciler “RTÜK’ün belirlediği akıllı işaretlerin oluşturulma amacı nedir?” sorusuna aşağıdaki cevapları vermişlerdir.**

**Mert:** Televizyon yayınlarının toplumun geniş kesimlerine ulaşmasını sağlamak.

**Muhammet:** Toplum, çocukları ve gençleri televizyon yayınlarının olası zararlı etkilerinden korumak.

**Kerem:** İzleyicilerin televizyon yayınlarından ne kadar etkilendiğini belirlemek.

**Eren:** Televizyon yayınlarının içeriğiyle ilgili bilgilendirici bir sınıflandırma yapmak.

**Yukarıdaki öğrencilerden hangileri doğru bilgi vermiştir?**

- A) Mert-Muhammet
- B) Eren-Kerem
- C) Muhammet-Eren
- D) Mert-Eren

2. Divan Teşkilatı, devlet işlerinin görüşüldüğü ve karara bağlandığı en önemli yönetim organıdır. Alanında uzman kişilerden oluşan Divan Teşkilatı padişaha devlet idaresinde yardımcı olurdu. Alınan kararlarda son sözün padişaha ait olmasından dolayı Divan-ı Hümayun “Danışma Meclisi” özelliği taşımaktaydı.

**Yukarıda açıklaması verilen Divan-ı Hümayun aşağıdaki padişahlardan hangisi zamanında kurulmuştur?**

- A) Osman Bey
- B) Yavuz Sultan Selim
- C) Orhan Bey
- D) 1.Murat

3.



Sosyal Bilgiler Öğretmeni Ayşen Hanım, iletişimi olumlu etkileyen tutum ve davranışların neler olduğunu öğrencilerine sorması üzerine şu cevaplar verilmiştir;

**Ali:** Sen dilini kullanmak

**Ahmet:** Güler yüzlü olmak

**Jale:** Etkili dinlemek

**Tuana:** Farklılıklara saygılı olmak

**Hangi öğrencinin verdiği cevap yanlıştır?**

- A) Ali
- B) Jale
- C) Ahmet
- D) Tuana

4.



Orhan Bey



I.Murat



Yıldırım Bayezit



II.Murat

. İstanbul kuşatıldı.

. Macarlarla 1444'te Edirne-Segedin Antlaşması imzalandı.

. 1444'te Varna Savaşı'nda Haçlılar bozguna uğratıldı.

. 1448'de İkinci Kosova Savaşı ile Avrupalılar bozguna uğratıldı.

**Yukarıda verilen gelişmeler hangi Osmanlı padişahı ile ilgilidir?**

- A) Orhan Bey
- B) 1.Murat
- C) Yıldırım Bayezit
- D) 2.Murat





Osmanlı Devleti'nin kuruluş sürecinde Anadolu'nun siyasi durumunu gösteren haritaya bakarak aşağıdaki yorumlardan hangisi yapılamaz?

- A) Osmanlılar Bizans İmparatorluğu ile sınır komşusu olmuştur.  
 B) Anadolu toprakları önemli ölçüde Türkleşmiştir.  
 C) Dulkadiroğulları Akdeniz hâkimiyetini ele geçirmiştir.  
 D) Anadolu Türk siyasi birliği kurulamamıştır.

6. Avrupa'da ortaya çıkan;

- I- Reform hareketlerinin yaşanması  
 II- Rönesans hareketlerinin yaşanması  
 III- Coğrafi Keşifler  
 IV- Aydınlanma Çağı

Yukarıda verilen gelişmelerden hangilerinde ekonomik amaçlar ön planda tutulmuştur?

- A) Yalnız II  
 B) Yalnız III  
 C) II ve III  
 D) I-II-IV

7. İnsanların konut adı verdiğimiz barınaklarda toplu veya dağınık şekilde hayatını sürdürmesine **yerleşme** denir. Geçmişten günümüze insanların yerleşim yeri tercihlerinde ortak özellikler vardır. Bu ortak özellikler doğal ve beşeri faktörler olarak ikiye ayrılmaktadır.

Aşağıdaki özelliklerden hangisi doğal faktörler arasında yer almaz?

- A) Endüstri Faaliyetleri  
 B) Yeryüzü Şekilleri  
 C) İklim  
 D) Toprak Özellikleri



8. Aşağıda Osmanlı Divan Teşkilatı'ndaki üst düzey görevliler ile ilgili kısa bilgiler verilmiştir;

1. ....?.....:Benim temel görevlerim; Osmanlı Devleti'nin gelir giderlerini tutmak, yıllık bütçeyi hazırlamaktır.
2. ....?.....:Ben Osmanlı Tahrir Defterleri'nin ve Mühimme Defterleri'nin kaydını tutarım.
3. ....?.....:Ben Osmanlı Divan toplantılarında büyük davalara bakarım. Kadı ve müderrislerin atamasını yaparım.

**Yukarıdaki görevlilerin isimleri sırasıyla aşağıdaki hangi seçenekte doğru verilmiştir?**

	-1-	-2-	-3-
A)	Kazasker	Nişancı	Defterdar
B)	Defterdar	Kazasker	Nişancı
C)	Nişancı	Kazasker	Defterdar
D)	Defterdar	Nişancı	Kazasker

9. Fatih Sultan Mehmet Han, İstanbul'u fethettikten sonra şehirden ayrılanların geri dönmeleri için gerekli tedbirleri almış, herkesin korkmadan evine dönebileceğini açıklamıştır. Gayrimüslim halka can, mal ve ırz güvenliği garantisi vermiştir.

**Yukarıdaki bilgilere göre aşağıdakilerden hangisine ulaşamaz?**

- A) Osmanlı halkı ilk kez yönetime katılmıştır.
- B) Fatih Sultan Mehmet Han hoşgörülü bir politika izlemiştir.
- C) İnanç farkı gözetmeksizin adaletli bir yönetim sergilenmiştir.
- D) Gayrimüslim halk koruma altına alınmıştır.

10. Günümüzde nüfus sayımı bir ülkede yaşayan nüfusun tümünün toplumsal ve ekonomik planlama açısından yararlı olacak kimi özellikler bakımından sayılmasıdır.

**Osmanlı tarihinde vergi vereceklerin ve askere gideceklerin sayısını belirlemek amacıyla yapılan, ilk nüfus sayımı hangi padişah zamanında yapılmıştır?**

- A) 2.Abdülhamit
- B) 2.Selim
- C) 2.Mehmet
- D) 2.Mahmut

11. Osmanlı Devleti'nde 1718 Pasarofça Antlaşması ile başlayıp 1730 Patrona Halil İsyanı ile sona eren devre Lale Devri denir. Lale Devri'nde birçok yenilik yapılmıştır. İlk kez Avrupa'ya geçici elçilikler kurulmuştur. İlk kez Tulumbacılar Bölüğü yerine İtfaiye Bölüğü kurulmuştur. İlk kez çiçek aşısı uygulanmıştır. Çini atölyeleri açılmıştır. İbrahim Müteferrika ve Sait Efendi bir matbaa kurmuşlardır. Dini kitapların dışında basım yapmaya başlayan matbaada ilk basılan eser ise Vankulu Lügati'dir.

**Verilen bilgilere göre Lale Devri ile ilgili olarak aşağıdaki yorumlardan hangisine ulaşamaz?**

- A) Bilginin yayılması kolaylaşmıştır.
- B) Sağlık ve zanaat alanında önemli çalışmalar yapılmıştır.
- C) Avrupa Devletleri ile ilişkiler artmıştır.
- D) Osmanlı Devleti Fransız İhtilali'nden etkilenmiştir.

12.

Osmanlı Devleti'nde hali vakti yerinde olanlar, bilmedikleri mahalleleri dolaşmaya çıkarılmış. Oralardaki bakkal, manav gibi esnaflara uğrar, dükkânın ıssız bir anını kollayıp dükkân sahibi ile baş başa kalınca onlara Zimem Defteriniz var mı diye sorarlarmış. Zimem Defteri'nin olduğunu öğrenen kişiler, borcunu ödeyemeyenleri tespit edip borcunu ödermiş. Yıllardır devam eden bu gelenek günümüzde yoğun olmasa da devam etmektedir.

**Osmanlı Devleti'ndeki bu uygulamanın;**

- I. Toplumsal dayanışmanın güçlenmesi
- II. İşsizliğin artması
- III. İhtiyaç sahiplerinin yaşamının kolaylaşması

**Sonuçlarından hangilerine zemin hazırladığı söylenebilir?**

- A) Yalnız I
- B) I ve III
- C) Yalnız III
- D) I ve II

**DİN KÜLTÜRÜ VE AHLAK BİLGİSİ TESTİ**

- Bu testte toplam 12 soru vardır.
- Cevaplarınızı optik formun Din Kültürü ve Ahlak Bilgisi kısmına işaretleyiniz
- Bu test için önerilen süre 12 dakikadır.

1. Ayşe Teyze çok şükür ki bir kez hacca, bir kez de Umre'ye gidebilmişti ve ömrü vefa ederse bir kez daha umreye gitmek istiyordu. Ancak tüm insanlığı etkileyen Coronavirüs Ayşe Teyze'ye de intisap etti (ulaştı). 25 gün süren yaşam mücadelesi sonunda maalesef hayatını kaybetti. Evlatları onun umreye bir kez daha gitmek istediğini bildikleri için hemen yakınlarından Surur Bey'i vekil tayin ederek Umre ziyaretini anneleri için yapmasını istediler. Surur Bey kutsal topraklara gidince Umre ibadetini yapmak için;.....

**Yukarıda boş bırakılan yere Umre ibadetini yerine getirebilmek için yapılacak olanlardan hangisi sırasıyla getirilmelidir?**

- A)** Önce ihrama girdi- Safa ve Merve arasında say yaptı-Kabe'yi tavaf etti.  
**B)** Önce Safa ve Merve arasında say yaptı- Kabe'yi tavaf etti- Arafat'ta vakfe yaptı.  
**C)** Önce İhrama girdi-Sonra Kabe'yi tavaf etti- Son olarak Safa ve Merve arasında say yaptı.  
**D)** Önce ihrama girdi-Arafat'ta vakfe yaptı-Kabe'yi tavaf etti.

2. Aslında her insan bu dünyada belirli bir süre yaşayacağını ve ölümlü olduğunu bilir. Fakat insanların büyük bir kısmı, bu gerçeği unutmak ister. Ancak bir gün hak-vaki olup ta ecel geldiğinde insanlar dünya hayatının bir sonunun olduğunu anlarlar. **İnsanın bu dünyadan ayrılıp ahiret hayatına giderken uğradığı ilk durak aşağıdakilerden hangisidir?**

- A)** Berzah  
**B)** Cennet  
**C)** Ba's  
**D)** Mahşer

3. -Kurban; Kurban Bayramı'nın ilk dört gününde kesilir.  
-Kurban; sığır, manda, koyun, keçi ve deve gibi hayvanlardan kesilir.  
-Kurban; eti üç parçaya ayrılır.  
-Kurban; Sözlükte yaklaşmak, yakınlaşmak demektir.

**Yukarıda kurban ile ilgili verilen bilgilerden kaç tanesi doğrudur?**

- A)** 1                      **B)** 3                      **C)** 2                      **D)** 4

4. Sabri dede Hac ibadetini yerine getirebilmenin mutluluğunu yaşıyordu. Zilhiccenin 9. günü ihrama girip, Arafat'ta vakfe yaptıktan sonra hacıların ikinci vakfelerini yaptıkları yere doğru yola çıktılar. Sabri dede buradan şeytan taşlamak için taş toplayacaklarını söyledi.

**Sabri dedenin vermiş olduğu bu bilgiler hac ile ilgili olarak belirlenen mekanlardan hangisine aittir?**

- A)** Safa  
**B)** Mina  
**C)** Müzdelife  
**D)** Merve

5. Cemal ile Zeynep sohbet ediyorlardı. Pencereden dışarıya baktıklarında lapa lapa kar yağdığını gördüler. Çok heyecanlandılar. Zeynep Cemal'e "Baksana! Cemal, çok güzel kar yağıyor. Az önce hiçbir şey yoktu. Acaba kar yağışını sağlayan melek hangisidir?" diye sordu.

**Cemal'in cevabı aşağıdakilerden hangisi olmalıdır?**

- A)** İsrail  
**B)** Mikail  
**C)** Hafaza  
**D)** Münker





6. Ben cinleri ve insanları ancak bana kulluk etsinler diye yarattım.( Zariyat Suresi, 56. Ayet)

**Bu ayetten hareketle insanların ve cinlerin ortak özelliği aşağıdakilerden hangisidir?**

- A) Görünmeyen varlıklar olmaları
- B) Ateşten yaratılmaları
- C) Sorumlu varlıklar olmaları
- D) Gayba dair bilgiler vermeleri

7. Hac esnasında farz olan ziyaret tavafı hangi günlerde yapılabilir?

- A) Arefe günü
- B) Kurban Bayramının 4.günü
- C) Kurban Bayramının 2.günü
- D) Kurban Bayramının 1.2.3. günü

8. İslam dini tüm insanların ahlaklı olmasını istemiştir. Buna göre aşağıdakilerden hangisi İslam'ın emrettiği davranışlardan biridir?

- A) İki yüzlü davranmak
- B) Duyarsız olmak
- C) Emaneti korumak
- D) Kırıcı olmak

9. Aşağıdakilerden hangisi meleklerin özelliklerinden değildir?

- A) İradeleri vardır.
- B) Gözle görülmezler.
- C) Cinsiyetleri yoktur.
- D) Yeme - içme gibi ihtiyaçları yoktur.

10. Kabe'nin etrafındaki her bir dönüşü.....denir. Peygamberimizin kabrinin de içinde bulunduğu yere ..... denir.

Hac ve Umre ibadeti yapmak isteyen kişinin Kabe'ye varıncaya kadar okuduğu duaya..... denir.

**Yukarıdaki boşluklar sırasıyla aşağıdaki hangi kelimelerle doldurulmalıdır?**

- A) Tavaf- Telbiye- Mescid-i Nebi
- B) Şavt- Mescid-i Nebi- Telbiye
- C) Tavaf- Mescid-i Nebi- Telbiye
- D) Şavt- Mescid-i Nebi- Say

11. Hz. Hacer'in oğlu İsmail'e su arayışını temsil eden ibadet aşağıdakilerden hangisidir?

- A) Şavt
- B) Tavaf
- C) Umre
- D) Say

12. Kurban edilecek hayvanlar ile ilgili olarak aşağıda verilen bilgilerden hangisi **yanlıştır**?

- A) Sığır ve manda 1 ve 7 kişi arasında ortaklaşa kurban edilebilir.
- B) Koyun ve keçi en az 1 yaşını doldurmuş olmalıdır.
- C) İneklerin kurban edilmesi için en az 2 yaşını doldurmuş olması gerekir.
- D) Develer 1 ile 5 kişi arasında kurban edilebilir.

**İNGİLİZCE TESTİ**

- Bu testte toplam 12 soru vardır.
- Cevaplarınızı optik formun İngilizce kısmına işaretleyiniz.
- Bu test için önerilen süre 12 dakikadır.

Hello. I am Efe and I want to write about my sister. Her name is Gülay. She is tall and slim with blonde hair and blue eyes. She is an attractive girl. Her friends like her very much because she is always cheerful and funny, so we never get bored with her. She is also outgoing and thoughtful. We usually play games together. She enjoys reading books and swimming. I love her very much!

1. Which one is **NOT** mentioned about Efe's sister in the text?

- A) Her education
- B) Her appearance
- C) Her personality
- D) Her hobbies

Sir Charles Spencer Chaplin was born on April 16, 1889. **(I)** He was an English comedian, filmmaker, and composer who rose to fame in the era of silent film. **(II)** He became a worldwide icon through his screen persona, "The Tramp", and is considered one of the most important figures in the history of the film industry. **(III)** Silent films appeared first in 1895. **(IV)** His career lasted more than 75 years, from childhood in the Victorian era until a year before his death in 1977.

3. Find the **irrelevant** sentence in the text above.

- A) I
- B) II
- C) III
- D) IV

Mr. Peterson wants to know his students better and observes each of them for a period of time. He takes some notes about them. Here are his notes :

- Jason does not do his homework or attend the classes regularly. He usually plays online games.
- Mary often buys presents to her friends and also likes helping them.
- Danny likes making new friends and hangs up with them. He does not enjoy spending time alone.
- Tony always tells the truth and never lies to his friends or family.

2. Which **CANNOT** be one of Mr. Peterson's comments on his students ?

- A) Danny is an outgoing boy.
- B) Jason is not very hardworking.
- C) Tony is an unreliable friend.
- D) Marry is a generous and caring girl.

It is a competitive team sport. It is not easy to play. Players must be good at swimming and ball control. They also need to be physically and mentally strong because they move continuously around the pool during the game. Each team has six field players and one goalkeeper. Two teams try to score goals by throwing the ball into the opponent's goal. At the end of the game, the team with the most goals wins the match.

4. Which sport is mentioned in the text above?

- A) Scuba diving
- B) Windsurfing
- C) Swimming
- D) Water polo





**Mary's Busy Sunday**

Hiking in the forest	8:30 a.m.
Going to the theatre	11 a.m.
Attending a rock concert with her close friend	3 p.m.
Visiting her cousins and aunt	6 p.m.
Doing her homework	8:30 p.m.

5. Complete the sentence according to the table above.

Mary is going to .....

- A) see a play before she goes hiking
- B) attend a music and sport event in the morning
- C) see her relatives after she does her homework
- D) spend time with her buddy after the theatre

Mike always watches documentaries about eagles. His friend, Emily asks him some details about these birds to learn more.

Emily: .....

Mike: They have strong muscular legs, large hooked beaks and very sharp eyesight.

Emily: .....

Mike: No, they are not. They are all carnivorous and hunt other small animals.

Emily: .....

Mike: It depends on species, but many eagles lay between one and three eggs per year.

6. Which question does Emily **NOT** ask?

- A) How many eagle species are there?
- B) What are the physical features of eagles?
- C) How many eggs do eagles lay in a year?
- D) Are eagles herbivore animals?

Answer the questions (7 - 9) according to the text below.

**The Magnificent Maldives**

The Maldives is a group of very small islands in the Indian Ocean, near Sri Lanka. It has the smallest population in Asian countries. The capital is Male. Male is (7) ..... the other islands in the Maldives, because it doesn't have any beaches. When you arrive at the airport, you can take "dhoni" to go to Male. This is a small boat used for (8) ..... around the island. The Maldives is a popular place for scuba-diving because there are many wonderful fish in the water to see. (9) ....., the water is so clear that you can see more than 50 meters when you dive into water.

7.

- A) the same
- B) different from
- C) similar to
- D) instead of

8.

- A) transportation
- B) accommodation
- C) catering
- D) historical place

9.

- A) However
- B) Also
- C) On the contrary
- D) But



Some people think that television is nothing but garbage, while others say that TV is a tool for good. Who is right or who is wrong? Well, the answer is not simple. Scientists believe that there are pros and cons of television in our lives. First, television is a cheap and easy source of entertainment in this life which is quite busy and expensive. In addition, .....

On the other hand, it is a fact that watching too much television can make you antisocial, and it is also potentially a waste of time.

**10. Which of the following can best complete the paragraph?**

- A)** Watching television for more than three hours a day may cause some behavioral problems and sleep difficulties.
- B)** It provides us to access international news immediately through live broadcast.
- C)** Watching too much television destroys social interactions. This may happen when someone spends too much time in front of the TV.
- D)** Advertisers sometimes target children. These advertisements exhibit some unhealthy products, such as junk food and fizzy drinks.

**Answer the questions (11 and 12) according to the paragraph below.**

**Diego Maradona  
(1960-2020)**

Diego Maradona was an Argentinean soccer legend who was widely regarded as one of the best players of all time. He was born on October 30, 1960, in Villa Fiorito, a province of Buenos Aires, Argentina. The fifth of eight children, raised by Diego Sr. and Dona Tota, Maradona grew up in a poor but close-knit household. He received his first soccer ball as a gift at the age of 3 and quickly became devoted to the game.

His career came as a member of the Argentinean national team that won the 1986 World Cup. His performance there included two memorable goals in a quarter-final victory over England.

Maradona spent the twilight of his playing career in his home country. He announced his retirement on the eve of his birthday in 1997. Maradona continued his playing career after his retirement. In 2008, Maradona was hired to coach the Argentinean national team. Maradona passed away on November 25, 2020.

**11. Which question is NOT answered in the text ?**

- A)** Which team did Maradona play in?
- B)** Where was Maradona born?
- C)** When did Maradona announce his retirement?
- D)** In which university did Maradona study?

**12. According to the passage, which one is correct about Maradona?**

- A)** Maradona had eight siblings and three of them were girls.
- B)** Maradona's relationship with his family was not good.
- C)** Maradona's first soccer ball was gifted when he was three years old.
- D)** After his retirement, Maradona scored two unforgettable goals in a quarter-final victory over England.

**MATEMATİK TESTİ**

- Bu testte toplam 12 soru vardır.
- Cevaplarınızı optik formun Matematik kısmına işaretleyiniz
- Bu test için önerilen süre 20 dakikadır.

1. Mehmet Öğretmen'in matematik dersinde öğrencilerine sormuş olduğu soru şu şekildedir. "Karesinin bir fazlası asal sayı olan bir basamaklı tamsayıların toplamı kaçtır?"

**Bu soruya doğru cevap veren öğrenci sonucu kaç olarak bulmuştur?**

- A) 0                      B) 13                      C) 24                      D) 61

2. a, b doğal sayı ve  $7 < a < b$  olmak üzere;

$$x = \frac{b}{7}, y = \frac{b}{a}, z = \frac{a}{b} \text{ olduğuna göre aşağıdaki}$$

**sıralamalardan hangisi doğrudur?**

- A)  $x < y < z$   
 B)  $x < z < y$   
 C)  $z < y < x$   
 D)  $z < x < y$

3. Aynı anda para biriktirmeye başlayan Burhan ve Emre biriktirdikleri miktar ile ilgili aşağıdaki bilgileri veriyorlar.

• BURHAN: Başladığımda 1800 liram vardı. Her 3 ayda bir 50 lira biriktirerek 3000 lira biriktirdim.

• EMRE: Aynı sürede bende her 4 ayda bir 100 lira biriktirerek seninle aynı miktarda para biriktirdim. Ama başlangıçtaki paramın ne kadar olduğunu hatırlamıyorum.

**Buna göre Emre'nin başlangıçta kaç lirası vardır?**

- A) 1200  
 B) 1000  
 C) 1800  
 D) 1400

4. Bir mahallede belli bir süre su kesintisi olacağı bildirilmiştir. Bu mahallede bir apartmanda su deposu bulunmaktadır. Deposundaki suyu, kesinti boyunca kullanacak olan apartman sakinleri, ihtiyaç duyacakları su miktarını hesaplamak istiyorlar. Eğer, depodaki suyun her gün 60 litresi kullanılırsa depoda 300 litre suyun kalacağını, her gün 90 litresi kullanılırsa 600 litre daha suya ihtiyaç olacağını hesaplıyorlar.

**Buna göre bu apartmanda kaç gün su kesintisi olacaktır?**

- A) 20                      B) 25                      C) 30                      D) 35

5. Akif Bey'in bu ay gelen kredi kartı ekstresi aşağıdaki gibidir;

Spor Mağaza Giyim	= -230,00 TL
Yakıt	= -60,00 TL
ATM para yatırma	= +420,00 TL
Para Puan	= +120,00 TL
Buzdolabı Taksit	= -1000,00 TL

**Kredi kartının borcunu zamanında ödemeyen Akif Bey'e 120 TL gecikme faizi uygulandığına göre; ödeyeceği toplam borç kaç TL olmuştur?**

- A) 700                      B) 750                      C) 870                      D) 890

6. Bir kaplumbağa saatte  $(2x-7)$  km hızla yürürken yanından hızının 8 katı hızla bir kirpi geçmiştir.

**Buna göre; bu kaplumbağa ve kirpinin hızları toplamını gösteren cebirsel ifade aşağıdakilerden hangisidir?**

- A)  $16x - 56$   
 B)  $16x - 63$   
 C)  $18x - 49$   
 D)  $18x - 63$

7. Bir sınıftaki kız öğrenciler, sınıf mevcudunun beşte ikisidir. Sınıfa 3 kız öğrenci daha gelirse, kız öğrenciler sınıfın yarısına eşit oluyor.

**Buna göre son durumdaki sınıf mevcudu kaç kişidir?**

- A) 15                      B) 18                      C) 21                      D) 24

8. Bir cam şişenin beşte ikisi su dolu iken 300 gr, onda yedisi su dolu iken 450 gr geldiğine göre bu cam şişenin boşken ağırlığı kaç gramdır?

- A) 20                      B) 50                      C) 60                      D) 100

9. Bir haftalık harçlığı 240 TL olan Ahmet ilk 6 günde harçlığının tamamını bitirmiştir. **1. ve 6. gün eşit, 2. ve 5. gün eşit, 3. ve 4. gün eşit miktarda para harcayan Ahmet son iki günde toplam 60 TL harcadığına göre 3. gün kaç TL harcamıştır?**

- A) 40                      B) 60                      C) 80                      D) 120

10. Bir fayans ustası bir duvara her gün eşit sayıda fayans döşemiştir. İlk 2 günde döşediği fayans sayısı, tüm fayansların sayısının üçte biridir. İlk 4 günde döşediği fayans sayısı ise tüm fayansların sayısının 30 eksiklidir.

**Buna göre bu usta tüm duvara toplam kaç tane fayans döşemiştir?**

- A) 15                      B) 30                      C) 90                      D) 180

11. Bir babanın yaşı, oğlu doğduğunda kızının yaşının 5 katıydı. Oğlu 8 yaşına geldiğinde babanın yaşı çocukların yaşları toplamının 2 katı olacaktır.

**Buna göre kızı doğduğunda babanın yaşı kaçtır?**

- A) 32                      B) 40                      C) 48                      D) 56

12. .....-36, -30, -24, ☀, -12, ●, ... ..  
... ..-9, -1, ■, 15, ◆, 31, ... ..

Yukarıdaki kartlarda tam sayılarla yazılmış iki örüntü verilmiştir. Bu örüntülerde verilen ☀, ●, ■, ve ◆ tam sayılarına göre

- I. ☀ - ● = ♥  
II. ☀ + ■ + ◆ = ♠  
III. ◆ - ■ - ☀ = ▲

**Yukarıdaki eşitliklere göre ♥ + ♠ + ▲ işleminin sonucu kaçtır?**

- A) 30                      B) 32                      C) 33                      D) 34

**FEN BİLİMLERİ TESTİ**

- Bu testte toplam 12 soru vardır.
- Cevaplarınızı optik formun Fen Bilimleri kısmına işaretleyiniz.
- Bu test için önerilen süre 20 dakikadır.

1. Aşağıdaki tabloda bazı spor otomobillerin kütleleri ve çıkabilecekleri en yüksek süratleri verilmiştir.

Özellikler	K	L	M	N
Kütlesi	1.670 kg	1.630 kg	1.617 kg	1.895 kg
En Yüksek Sürat	370 km/sa	360 km/sa	324 km/sa	420 km/sa

Buna göre aşağıdaki yargılardan hangisi veya hangileri **doğru değildir?**

- Tüm araçlar eşit kütleye sahip sürücülerle en yüksek sürate çıktığında en küçük kinetik enerji M aracının olur.
- Tüm araçlar eşit kütleye sahip sürücülerle 200 km/sa lik süratle yol alırken kinetik enerjilerinin sıralaması yapılamaz.
- Belirtilen özellikler dikkate alındığında K, L, M ve N araçlarının çekim potansiyel enerjileri bulunabilir.

- A) Yalnız I  
B) Yalnız II  
C) II-III  
D) I-II-III

2. Dünya'dan bakıldığında gökyüzündeki bazı yıldızlar bir aradaymış gibi görünür. Bu şekildeki yıldız kümelerine **takımyıldızı** denir. Takımyıldızında bulunan yıldızlar bir aradaymış gibi görünmelerine rağmen birbirinden çok uzakta bulunur. Takımyıldızları isimlerini; Büyükayı, Boğa, Büyük Köpek, Yılan, Küçükayı, Ejderha, Çoban, Kuzey Tacı, Avcı gibi benzetildiği varlıklardan almıştır. Takımyıldızları, gökyüzü gözlemlerini kolaylaştırmaktadır.

Yukarıdaki paragrafa göre, aşağıda verilenlerden hangisi söylenemez?

- A) Takım yıldızları gökyüzü haritasının çıkartılmasında faydalı olan bir uygulamadır.  
B) Takım yıldızları birbirine uzak olan yıldızlardan oluşur.  
C) Takım yıldızlarının farklı isimlerinin olması farklı varlıklara benzetilmesindedir.  
D) Dünyanın herhangi bir yarım küresinde bulunan gözlemciler tüm takım yıldızlarını gözlemleyebilirler.

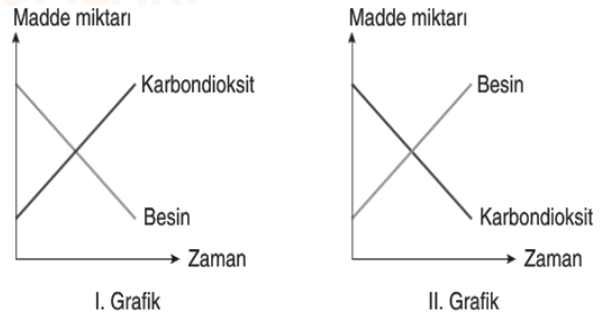
3. Aşağıda mayoz bölünme ile ilgili şema hazırlanmıştır.



Buna göre şemadaki ifadelerden doğru olanlar için "D" yönü, yanlış olanlar için "Y" yönü takip edilerek ilerlediğinde Ayşe 2 hatalı sonuçla ,Fatma ise 1 hatalı , 1 hatasız sonuçla hangi çıkışlara ulaşmıştır?

	Ayşe	Fatma
A)	3	2
B)	3	4
C)	3	1
D)	1	4

4. Kloroplast ve mitokondri organellerinin kullandığı ve ürettiği maddelerin zamanla değişimini gösteren grafikler aşağıda verilmiştir.



Bu göre grafiklerden esinlenerek aşağıdakilerden hangisi yanlıştır?

- A) I. grafikte belirtilen değişim sinir hücrelerinde daha çok görülür.  
B) II. grafikte belirtilen değişim ter bezlerinde daha çok görülür.  
C) Her iki grafikteki olaylar bitki hücresinde gerçekleşebilir.  
D) I. grafik solunum, II. grafik fotosentez olaylarına aittir.

5.

	Bilgi	Doğru
		Yanlış
1	Yapay uydular Güneş'in yörüngesinde dolanır.	D
2	Astronomi bilim dalı ile ilgilenen bilim insanlarına astrolog denir.	Y
3	Uzaya gönderilen yapay uydular, uzay mekikleri ve meteorlar uzay kirliliğine neden olur.	Y
4	Yapay uydular sadece uzayı daha iyi gözlemlemek için yapılmıştır.	Y

Yukarıdaki bilgileri tahtaya yazan Mehmet öğretmen, Ali'yi tabloyu doğru "D" ya da yanlış "Y" olarak doldurması için tahtaya çağırıyor.

**Vereceği her başarılı yanıt için 25 puan alacak olan Ali, vermiş olduğu cevaplar ile toplamda kaç puan almıştır?**

- A) 25  
B) 50  
C) 75  
D) 100

6.

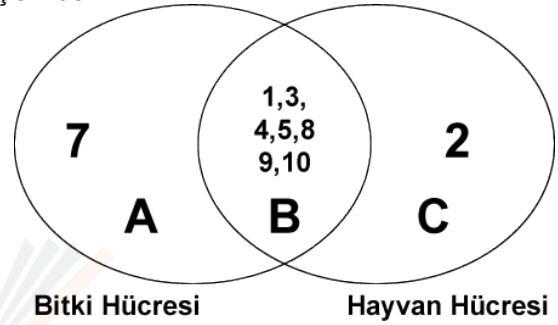
D / Y	BİTKİ HÜCRESİ	HAYVAN HÜCRESİ
D	Sentrozom bulunmaz.	Kloroplast bulunmaz
D	Koful küçük ve çok sayıdadır.	Koful büyük ve az sayıdadır.
Y	Hücre duvarı bulundurulur.	Hücre duvarı bulundurmaz.
D	Köşelidir.	Yuvarlaktır

Bitki ve hayvan hücresi ile ilgili verilen bilgileri işaretleyen Ayla'nın cevapları tablodaki gibidir.

**Ayla'nın verdiği cevaplara bakılarak aşağıdakilerin hangisi söylenemez?**

- A) Bitki hücresinde sentrozom, hayvan hücresinde kloroplast bulunmadığını biliyor.  
B) Bitki hücresinde kofulun büyük ve az sayıda, hayvan hücresinde kofulun küçük ve çok sayıda olduğunu bilmiyor.  
C) Bitki hücresinde hücre duvarı bulunduğunu, hayvan hücresinde ise hücre duvarının bulunmadığını biliyor.  
D) Bitki hücresinin köşeli, hayvan hücresinin yuvarlak olduğunu biliyor.

7.  
1. Ribozom  
2. Sentioller  
3. Endoplazmik Retikulum  
4. Golgi Cisimciği  
5. Mitokondri  
6. Koful  
7. Kloroplast  
8. Hücre Zarı  
9. Hücre Duvarı  
10. Çekirdek



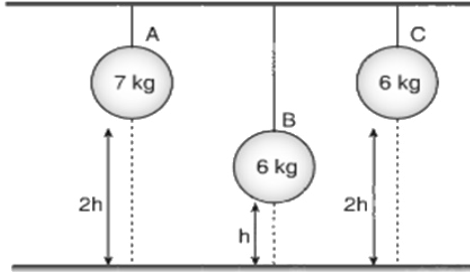
Yukarıda verilen organeller Venn şemasında A, B ve C bölümlerine aşağıdaki gibi yerleştirilmiştir.

**Buna göre aşağıdaki ifadelerden hangisi doğrudur?**

- A) Şema tamamen doğru yerleştirilmiştir.  
B) 9.organel A bölümüne yazılırsa şema doğru olur.  
C) 2.organel B bölümüne yazılırsa şema doğru olur.  
D) 7 ve 2.organel B bölümüne yazılmalıdır.



8.



Çınar, belirli yükseklikte astığı topların sahip oldukları çekim potansiyel enerjisini araştırmak için deney düzeneği kurmuştur.

**Buna göre aşağıda verilenlerden hangisi doğrudur?**

- A)** Deneyde bağımsız değişken yükseklik olursa B ve C toplarını kullanabilir.  
**B)** Deneyde çekim potansiyel enerjinin yüksekliğe bağlı olduğunu araştırmak için A ve B toplarını kullanabilir.  
**C)** Deneyde çekim potansiyel enerjinin kütleyle bağlı olduğunu araştırmak için B ve C toplarını kullanabilir.  
**D)** Deneyde bağımsız değişken kütle olursa A ve B topları kullanılabilir.

9. Sokakta Gök cisimleri ile ilgili röportaj yapan gazeteci ve vatandaş arasında geçen bir diyalog verilmiştir.

**Gazeteci:** Dünya'dan gökyüzüne bakıldığında bir arada görünen yıldız kümelerine ne denir ?

**Vatandaş:** Kolay soru ! Takım yıldızı denir .

**Gazeteci:** Peki ozaman ikinci soru geliyor. Evrenin Dünya dışındaki kalan kısmına ne isim verilir?

**Vatandaş:** Galaksi denir.

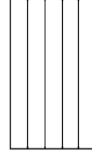
**Yapılan konuşma sonrasında vatandaşın verdiği cevaplar ile ilgili ne söylenebilir?**

- A)** 1. Soruya yanlış, 2.soruya doğru cevap vermiştir.  
**B)** Her iki soruya da doğru cevap vermiştir.  
**C)** Her iki soruya da yanlış cevap vermiştir.  
**D)** 1. Soruya doğru , 2. Soruya yanlış cevap vermiştir.

10.



Uzayda gaz ve toz bulutlarının oluşturduğu kümelere verilen isimdir.



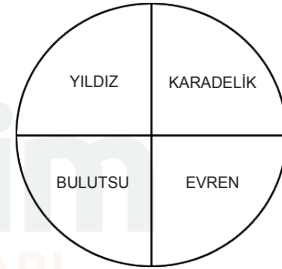
Büyük kütleli yıldızların ömrünü tamamladıktan sonra geçirdiği süpernova patlaması sonucunda ışığı dahi yutabilen gök cisimleridir.



Bulutsu adı verilen gaz ve toz bulutlarının bir araya gelip sıkışmasıyla oluşan kendiliğinden ısı ve ışık yayabilen gök cisimleridir.

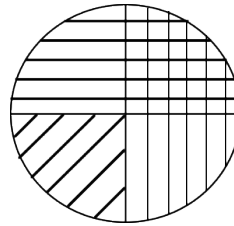


İçinde galaksilerin, yıldızların, meteorların, asterooidlerin, uyduların, gezegenlerin bulunduğu sonsuz boşluktur.

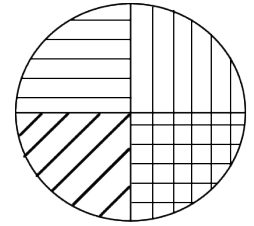


**Yazılan bilgiler ile daire içindeki tanımlar eşleştirildiğinde dairenin son hali nasıl olur ?**

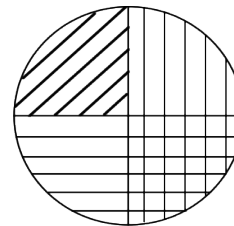
**A)**



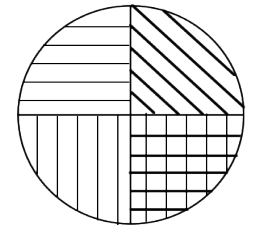
**B)**




**C)**



**D)**



11. Dünya'nın üzerinde bulunan cisimlere etki eden kütle çekim kuvvetine yer çekimi kuvveti denir. Deniz seviyesinden yukarı çıktıkça cisimlere etki eden yer çekimi kuvveti azalır. Kütleyle etki eden yer çekimi kuvvetine ise ağırlık denir. Bu sebeple etki eden yer çekimi kuvvetinin büyüklüğü değiştikçe ağırlık da değişir.



Kütleleri 55 kg olan Aslı, 50 kg olan Gülce ve 60 kg olan Ecrin şekilde gösterilen hangi noktalarda olurlarsa ağırlıkları birbirine eşit olabilir ?

	<u>ASLI</u>	<u>GÜLCE</u>	<u>ECRİN</u>
A)	B	C	A
B)	C	A	B
C)	C	B	A
D)	A	C	B

12.

Cisim	Cismin Dünya'daki Kütle	Cismin Dünya'daki Ağırlığı	Cismin Ay'daki Kütle	Cismin Ay'daki Ağırlığı
A	6 Kg			
B			24 Kg	
C				50 N
D		6000 N		

Yukarıda verilen tablo doğru bir şekilde doldurulursa aşağıdakilerden hangisi gibi olur?

A)

Cisim	Cismin Dünya'daki Kütle	Cismin Dünya'daki Ağırlığı	Cismin Ay'daki Kütle	Cismin Ay'daki Ağırlığı
A	6 kg	60 N	36 kg	360 N
B	4 kg	40 N	24 kg	240 N
C	5/6 kg	50/6 N	5 kg	50 N
D	600 kg	6000 N	36000 kg	360000 N

B)

Cisim	Cismin Dünya'daki Kütle	Cismin Dünya'daki Ağırlığı	Cismin Ay'daki Kütle	Cismin Ay'daki Ağırlığı
A	6 kg	6 N	36 kg	36 N
B	4 kg	4 N	24 kg	24 N
C	5/6 kg	50/6 N	50 kg	50 N
D	600 kg	6000 N	36000 kg	360000 N

C)

Cisim	Cismin Dünya'daki Kütle	Cismin Dünya'daki Ağırlığı	Cismin Ay'daki Kütle	Cismin Ay'daki Ağırlığı
A	6 kg	60 N	6 kg	30 N
B	24 kg	240 N	24 kg	120 N
C	2,5 kg	100 N	2,5 kg	50 N
D	600 kg	6000 N	600 kg	3000 N

D)

Cisim	Cismin Dünya'daki Kütle	Cismin Dünya'daki Ağırlığı	Cismin Ay'daki Kütle	Cismin Ay'daki Ağırlığı
A	6 kg	60 N	6 kg	10 N
B	24 kg	240 N	24 kg	40N
C	30 kg	300 N	30 kg	50 N
D	600 kg	6000 N	600 kg	1000 N

