

Öğrenci  
Adı :  
Soyadı :

### TÜRKÇE TESTİ

- Bu testte toplam 12 soru vardır.
- Cevaplarınızı optik formun Türkçe kısmına işaretleyiniz
- Bu test için önerilen süre 12 dakikadır.

- \*Kaplamak , yayılmak
- \*Salınmak, serbest bırakılmak
- \*Çıkmak, ortaya konulmak

#### 1. "Dökülmek" sözcüğü aşağıdakilerin hangisinde yukarıda verilen anlamlardan biriyle kullanılmamıştır?

- A)** Duvarlar bütün ışıkları yutuyor, halkın üstüne bir toprak rengi dökülüyor.
- B)** Adeta düşünmeksizin kaleminden masal sahnelerine benzeyen dağ, dere resimleri dökülüyordu.
- C)** Saçlarını arkaya atıp ensesine dökülen buklelerini kabarttı.
- D)** Bahar o sene erken gelmiş, herkes tarlalara dökülmüştü.

1. \* Burnunun direği sızlamak: Çok kötü kokmak, kötü kokudan dolayı midesi bulanmak.
2. \* Basireti bağlanmak: İyi düşünemez, gerçeği göremez bir duruma düşmek.
3. \* Başına çorap örmek: Birine haberi olmadan kötü duruma düşürücü davranışta bulunmak.
4. \* Bin tarakta bezi olmak: Birçok işi veya ilişkisi olmak.

#### 2. Yukarıda anlamları verilen deyimlerin açıklamalarından hangisi yanlıştır?

- A)** 1  
**B)** 2  
**C)** 3  
**D)** 4

3.

#### 1. Metin

Rebutia: En popüler kaktüs türlerindedir. Açtığı rengarenk çiçekler ile dikkat çeker. Huni şeklinde olan çiçekleri genellikle gündüz açar ve geceleri kapanır. Çiçek renkleri turuncu, kırmızı, pembe ve sarıdır. Çiçek renkleri ne olursa olsun ortak noktaları ortalarının sarı olmasıdır. Kuvvetli ışığa ihtiyaç duyarlar. Yaz aylarında suyu çok severler. Soğuğa dayanıklı bitkilerdir.

#### 2. Metin

Echinokaktüs: Altın sarısı dikenlerinden dolayı "altın fiçi" da denir. Çok dayanıklıdır. Yazın bol sulanırsa hızlı büyüyen bir kaktüs türüdür. 15, 20 yaşında yetişkin hale gelir ve sarı çiçekler açmaya başlar. Kışın -15 dereceye kadar dayanır. Bol güneşli yer ister. Yazın bolca sulanabilir. Kışın az su ister. Susuz kalmaya da dayanıklıdır.

#### Yukarıdaki birinci ve ikinci metni karşılaştırdığımızda aşağıdakilerden hangisi çıkarılamaz?

- A)** Her iki kaktüs türü de güneşi, ışığı seven bitkilerdir.
- B)** İki kaktüs de sarı çiçek açar ve çiçeklerin ortaları sarıdır.
- C)** Yazın çokça sulanmalarında bir sakınca yoktur.
- D)** Kaktüslerden ikisi de soğuk kış şartlarına dayanıklıdır.

#### 4. Aşağıdaki cümlelerin hangisinde iyelik zamiri almış bir kelime yoktur?

- A)** Hayatımızda değişen hiçbir şey yok, dedi.
- B)** Hayatı dolu dolu yaşamak ne güzel.
- C)** Hayattaki tek dostumu çok kırmıştım.
- D)** Hayatı öyle renkli, güzel ve eğlenceliydi ki...



5. Dünyadaki teknolojik yenilikler ve endüstriyel gelişmeler doğanın en az zarar görmesi prensibinden hareketle değil de ekonomik bir yaklaşımla ve en az maliyet esasına dayalı bir anlayışla günden güne ilerlemektedir. Hava kirliliğinin, toksik atıkların, endüstriyel ve çevresel kirliliklerin oranı gittikçe artmaktadır. Artan bu olumsuzlukların insanlara anlatılması için pek çok alanda istatistiksel veriler sunulmakta ve bilimsel açıklamalar yapılmaktadır. Ancak bu veriler insanları etkilememekte ve insanları çözüm aramak yönünde harekete geçirememektedir.

**Yukarıdaki paragrafta asıl anlatılmak istenen nedir?**

- A) Dünyadaki teknolojik ve endüstriyel gelişmelerin çevreye zarar vermesi
- B) Dünyadaki yenilik ve gelişmelerin doğayı olumsuz etkilemesi ve insanların buna kayıtsız kalması
- C) Dünyadaki gelişmelerin verdiği zararları anlatan bilimsel çalışmaların sayısının artırılması
- D) Dünyadaki endüstriyel gelişmelerin zararlarını anlatan sunumların yapılması

6. Geniş, siyah gölgesi hayatımı kaplayan,  
Tepemde kanat germiş bir kartaldır yalnızlık.  
Kalp çarpıntısıyla günleri hesaplayan  
Bir benim, benim olan bir masaldır yalnızlık.

**Cahit Sıtkı Tarancı**

**Yukarıdaki şiirde benzeyen ve benzetilen  
aşağıdakilerin hangisinde doğru olarak  
gösterilmiştir?**

- | <u>Benzeyen</u> | <u>Benzetilen</u> |
|-----------------|-------------------|
| A) Yalnızlık    | Kartal            |
| B) Kartal       | Yalnızlık         |
| C) Masal        | Yalnızlık         |
| D) Kartal       | Masal             |

7. Evin muhteşem bahçesi görenleri hayran bırakıyordu. Ihlamur ağacı, mimozalar, sardunyalı, rengarenk çiçekler bahçeyi doldurmuştu. İki kardeş belli ki bahçeyi bu hale getirmek için çok çalışmışlardı. Bahçeden mis gibi kokular etrafa yayılırken onlar da bunun tadını çıkarıyorlardı.

**Yukarıdaki paragrafta aşağıdaki tamlamalardan hangisi kullanılmamıştır?**

- A) Sıfat tamlaması
- B) Belirtisiz isim tamlaması
- C) Belirtili isim tamlaması
- D) Zincirleme isim tamlaması

8. Bizim dostluk dediğimiz, ruhumuzun beraber olmasını sağlayan bir rastlantı ya da zorunlulukla edindiğimiz yakınlıklardır. Benim anlattığım dostlukta ruhlar o kadar derinden uyumuş, karışmış ve kaynaşmıştır ki **onları birleştiren dikiş silinmiş ve artık görünmez olmuştur.**

**Yukarıdaki altı çizili cümle ile anlatılmak istenen nedir?**

- A) Dostlar arasındaki yakınlık ve bağlılık her geçen gün artmaktadır.
- B) Dostlarımızla her şey güzel görünür ve onların hataları gözümüzde görünmez olur.
- C) Dostlarla geçirilen zaman çabucak geçer, anılar teker teker silinir gider belleklerden.
- D) Dostları bir arada tutan her ne varsa unutulmuş ve dostluk manevi bir boyut kazanmıştır.



9. "Kazan kaynamayan yerde maymun oynamaz." atasözünün anlamı aşağıdakilerden hangisinde doğru verilmiştir?

- A) Hiçbir iş karşılıksız yapılmaz, anlamında kullanılan sözümdür.
- B) Aç insanın iş yapmaya gücü olmaz anlamındadır.
- C) Bir işe tutunamayan, işi beceremeyen insanlar için kullanılır.
- D) Bir insanın huyu kötüyse ondan hayır gelmez anlamındadır.

10. Ülkemizin Şehirleri ve Meşhur yiyecekleri

- Izmit → Pişmaniye
- Kayseri → Manti
- Hatay → Künefe
- Adana → Kebap
- Gaziantep → Baklava
- Bursa → İskender

Bir gezgin yukarıdaki bazı şehirleri gezip oranın meşhur olan tatlılarından tatmaktadır. Bunun için de kendince bir plan yapmıştır. Perşembe günleri tatlıları diğer günlerde de yemekleri yiyecektir. İlk olarak gezisine salı günü başlamıştır. Önce Kayseri'ye gitmiş daha sonraki gün de Adana'ya uğramıştır. Sonraki gün olan perşembe de Gaziantep'e yolculuk yapmıştır. Burada üç gün kalmış. Pazar günü Bursa'ya varmıştır. Burada da birkaç gün konakladıktan sonra perşembe günü gezisini Izmit'te noktalamıştır.

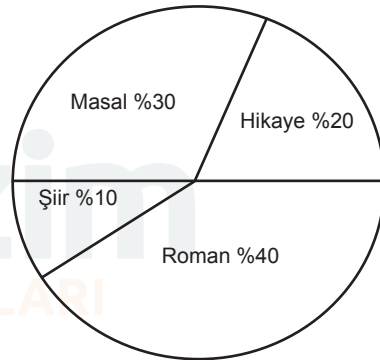
Gezgin için aşağıdakilerden hangisi söylenebilir?

- A) Çarşamba günü Kayseri'de mantı yemiştir.
- B) Perşembe günü Gaziantep'te künefe yemiştir.
- C) Pazar günü Bursa'da iskender yemiştir.
- D) Perşembe günü Hatay'da künefe yemiştir.

11. Safir taşı, gök yakut olarak da bilinen ve dünyadaki en değerli taşlardan biridir. Sert, ısıya dayanıklı ve genellikle göz alıcı mavi renktedir. Fakat en kıymetlisi berrak ve derin mavi olanıdır. Safir taşının, takan kişiye güven verdiğine ve şefkat duygusunu güçlendirdiğine inanılır. Ayrıca fiziksel olarak kalbi güçlendirdiği ve konsantrasyonu arttırdığı inancı da oldukça fazladır.

Yukarıdaki paragraftan safir taşı ile ilgili olarak aşağıdakilerden hangisi çıkarılamaz?

- A) Safir taşının farklı isimle de tanındığı
- B) İnsanlar üzerinde olumlu etkileri olduğu
- C) Dünyada bilinen en değerli taş olduğu
- D) Safir taşının farklı renklerde de olabileceği



12. Yukarıdaki grafik bir ülkede okunan kitap türlerinin yüzdelerini göstermektedir. Grafiğe bakılarak aşağıdakilerden hangisi söylenemez?

- A) Roman ve hikaye türleri toplamda %50'den fazla tercih edilmiştir.
- B) Okunan kitaplar arasında hikaye kitapları 3.sıradadır.
- C) Masal kitaplarının %30 olmasının sebebi en çok çocukların okumasıdır.
- D) Tercih edilen kitap türleri arasında en sonda şiir kitapları yer almıştır.

**SOSYAL BİLGİLER TESTİ**

- Bu testte toplam 12 soru vardır.
- Cevaplarınızı optik formun Sosyal Bilgiler kısmına işaretleyiniz.
- Bu test için önerilen süre 12 dakikadır.

1. I. Anadolu'nun çeşitli yerlerinde medreselerin yapılması  
II. Anadolu'da birçok kervansarayın yapılması  
III. Anadolu'nun çeşitli yerlerine şifahaneler yapılması

**Türklerin Anadolu'yu yurt edinme sürecinde yapmış oldukları yukarıdaki faaliyetlerin ilgili oldukları alanlar hangisinde doğru bir şekilde sıralanmıştır?**

-I-	-II-	-III-
A) Siyasi	Sosyal	Sağlık
B) Sosyal	Ekonomik	Eğitim
C) Eğitim	Ekonomik	Sağlık
D) Eğitim	Siyasi	Ekonomik

2. Asya Hun Devleti'nin en parlak dönemi Mete Han dönemidir. Mete Han, Çin'e karşı önemli zaferler elde etmiştir. Bu zaferlerle Çin topraklarını hakimiyet altına alabilecekken, bunu yapmayarak Çin'i ağır vergilere bağlanmıştır. İlerleyen zamanlarda da Mete Han, Çin'i hiçbir zaman topraklarına katmamıştır.

**Mete Han'ın Çin topraklarını hakimiyet altına almamasının amacı aşağıdakilerden hangisidir?**

- A) Türk kültürünün asimile olmasını engellemek  
B) Çin İmparatorluğu'nun saldırmasından çekinmek  
C) Türk topraklarının yeterli büyüklüğe sahip olması  
D) Mete Han'ın ordusunun yeterli güce sahip olmaması

3. Güneşten gelen ışınlar dünyanın her yerine aynı açılarla ulaşmaz. Ekvator bölgesine Güneş ışınları dik açıyla gelirken kutuplara doğru ışınlar eğik açıyla gelir. Böylece sıcaklık Ekvator'dan kutuplara doğru azalma göstermektedir. Bu durum Türkiye'de de sıcaklığın güneyden kuzeye doğru azalma göstermesinin nedenidir.

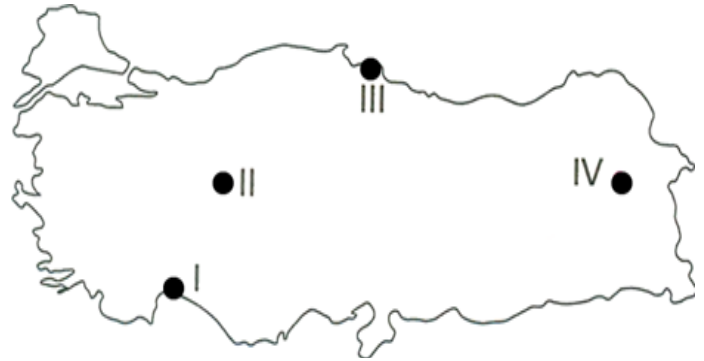
**Buna göre;**

- I. Sinop'un sıcaklık ortalamasının Adana'dan düşük olması,  
II. Muğla'nın sıcaklık ortalamasının Trabzon'dan daha fazla olması,  
III. İzmir'in sıcaklık ortalamasının Şanlıurfa'dan daha fazla olması

**gelişmelerinden hangileri bu duruma örnek gösterilemez?**

- A) I ve II  
B) Yalnız II  
C) Yalnız III  
D) I, II ve III

4. Meridyen çizgileri bir kutuptan başlayıp diğer kutupta birleşmektedir. Meridyenlerin uzunlukları aynı ama Dünyanın şeklinden dolayı aralarındaki mesafe Ekvatordan kutuplara doğru daralmaktadır.



**Yukarıdaki bilgiden yola çıkarak Türkiye haritasında işaretli yerlerden hangisinde meridyenler arası mesafe daha azdır?**

- A) Yalnız III  
B) II ve IV  
C) Yalnız I  
D) I ve III

5. Haçlı Seferleri ya da Haçlı Akınları, 1096-1272 yılları arasında, Avrupalı Katolik Hristiyanların, Papa'nın isteği ve çeşitli vaatleri üzerine, genellikle Müslümanların elindeki Orta Doğu toprakları (Kutsal Topraklar) üzerinde askeri ve siyasi kontrol kurmak için düzenledikleri akınlar bütünüdür. Haçlı orduları ,Türk ve İslam ülkeleri üzerine 8 Haçlı Seferi yapmışlardır. Bunların dördü Anadolu üzerinden ,diğer dördü deniz yolu üzerinden gerçekleşmiştir. Bu seferlerin sonuçları Avrupa'nın sosyal, siyasi ve ekonomik yapısında pek çok değişikliğe neden olmuştur.

**Avrupa'da yaşanan bu değişiklikler arasında aşağıdakilerden hangisinin olduğu söylenemez?**

- A) Derebeylik (Feodalizm) rejimi zayıfladı.
- B) Kiliseye ve papaya duyulan güven azaldı.
- C) Avrupalılar, Müslümanlardan barut, matbaa, kağıt ve pusulayı öğrendiler.
- D) Akdeniz limanları önemini kaybetti.

6. Malazgirt Savaşı'ndan sonra Anadolu'nun fethiyle görevlendirilen Danişment Ahmet Gazi,Süleyman Şah,Saltuk Bey,Artuk Bey ,Mengücek Gazi gibi beyler kurdukları beylikler sayesinde Anadolu'ya Türklerin yerleşmesini sağlamışlardır.Hakim oldukları bölgelerde cami, medrese, kervansaray, darüşşifa ve külliye gibi birçok kurum inşa etmişlerdir.

**Buna göre;**

- I. Türk Beyleri Anadolu'nun Türkleşmesi ve İslamlaşmasını sağlamışlardır.
- II. Anadolu'nun bayındır hale gelmesini sağlamışlardır.
- III. Anadolu'nun tamamen Türklerin vatani olmasını sağlamışlardır.

**Yargılarından hangisi veya hangilerine ulaşılabilir?**

- A) I, II, III
- B) I ve II
- C) I ve III
- D) Yalnız I

7. **Kültür**, insanoğlunun maddi ve manevi olarak ürettiği, yarattığı her şey: Gelenekleri, görenekleri, dili, dini, edebiyatı, giyimi, mimarisi, yemekleri vs. Her toplumun kendine özgü bir kültürü vardır. Bu kültür kuşaktan kuşağa aktarılan bir miras niteliindedir.

**Dil**, kültür unsurlarının başında gelir, kültüre ait bütün unsurları bünyesinde barındırır. Her millet yaşayışını dile yansıtır ve kültür öğeleri dil aracılığı ile nesilden nesile aktarılır.

Ulu Önder Atatürk dil ve kültürün önemi ile ilgili şunları söylemiştir:

- "Milli duygu ile dil arasındaki bağ çok güçlüdür. Dilin milli ve zengin olması, milli duygunun gelişmesinde başlıca etkidir. Türk dili, dillerin en zenginlerindedir; yeter ki bu dil bilinçle işlensin."

- "Bir ulusun dili, bütün bilim kavramlarını oluşturacak şekilde gelişmemişse o ulusun bilim ve kültür alanında bir varlık göstermesi beklenemez."

**Verilen bilgiler doğrultusunda kültür ve dil ile ilgili aşağıdakilerden hangisine ulaşamaz?**

- A) Dilin gelişmesi kültürün de gelişmesini sağlar.
- B) Her toplum kültürüne aynı oranda sahip çıkar.
- C) Dil, kültürün aktarılmasını sağlar.
- D) Toplumların kendilerine özgü kültürleri vardır.

8. Bir kişiyle veya olayla ilgili önceden olumlu veya olumsuz karar vermeye **ön yargı** denir. Ön yargının diğer adı peşin hükümlü olmaktır. Bazen bazı olay veya durumlar hakkında, kendi izlenim, sezgi, bilgi, duygu veya düşüncelerimize dayanarak ileriye dönük kestirmelerde bulunuruz. Henüz olayların başında, onların sonucunda nelerin gerçekleşeceğine dair beklentilerimizi yansıtan cümleler kurarız. Bunlar olumlu veya olumsuz olabilir. İşte bu cümlelere ön yargı cümleleri denir.

**Aşağıdaki cümlelerden hangisi ön yargı cümlesi değildir?**

- A) Onun suçlu olduğuna adım gibi eminim.
- B) Eminim bu haber gündeme bomba gibi düşecek.
- C) Sanatçının son şarkısı rekor kıracak.
- D) Güzel çalışmaya devam edersen, sınavdan 100 alabilirsin.



9. Kutadgu Bilig; mutluluk veren bilgi anlamına gelmektedir ve içerisinde beyitler bulunan bir eserdir. Mutluluğun, devlet olma bilgisinin ve devlet yönetimi bilgisinin anlamına gelen çalışma, Balasagun'da .....?.....tarafından yazılmaya başlanmıştır. 1069-1070 yılında Doğu Türkistan'daki Kaşgar şehrinde tamamlandı ve Doğu Karahanlı Tabgaç Ulug Buğra Kara Han'a takdim edildi.

Yukarıda ki soru işaretli yere aşağıdaki isimlerden hangisi yazılırsa doğru olur?

- A) Nizamülmülk
- B) Kaşgarlı Mahmut
- C) Yusuf Has Hacib
- D) Ahmet Yesevi

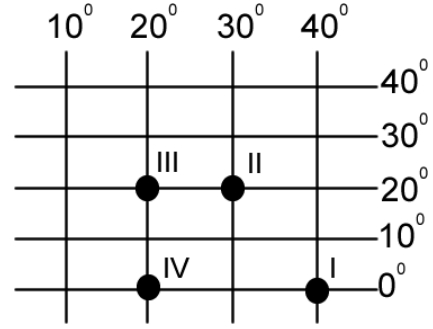
10. Ülkemizin fiziki özelliklerinin önemli bölümünü oluşturan yeryüzü şekilleri ,fiziki haritada gösterilir. Aşağıda, ülkemizde görülen 4 yeryüzü şeklinin tanımı yapılmıştır:

- I. Çevresine göre yüksekte kalmış ve akarsular tarafından derin olarak yarılmış geniş düzlüklerdir.
- II. İki kara parçası arasında uzanan geçit biçimindeki coğrafi şekillere verilen addır.
- III. Denizin, türlü biçimlerde, karanın içine sokulmuş parçasıdır.
- IV. Çevresine göre çukurda kalmış, eğimi az, geniş veya dar düzlüklerdir.

Yukarıda tanımları verilen yer şekillerinin sıralaması aşağıdakilerden hangisinde doğru verilmiştir?

	I	II	III	IV
A)	Ova	Boğaz	Körfez	Plato
B)	Dağ	Ada	Koy	Ova
C)	Plato	Boğaz	Körfez	Ova
D)	Plato	Akarsu	Koy	Vadi

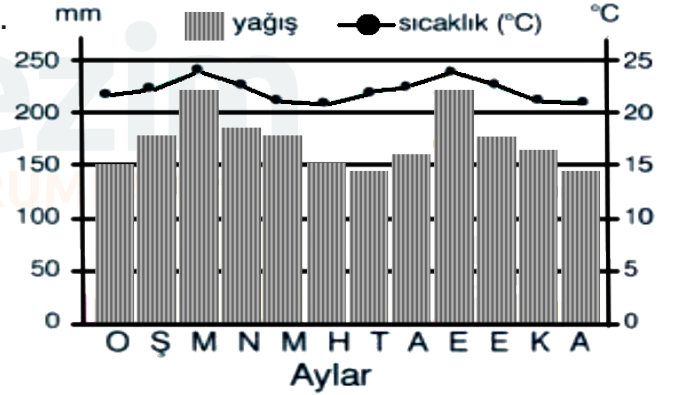
11.



Yukarıda işaretlenen merkezlerle ilgili olarak aşağıdakilerden hangisi söylenemez?

- A) II ve III. merkezlerin yerel saatleri aynıdır.
- B) III ve IV. merkezler arasında 2220 km uzaklık vardır.
- C) Güneş en önce I numaralı merkezde doğar.
- D) I ve IV numaralı merkezler arasında 80 dakikalık zaman farkı vardır.

12.



Yukarıdaki yağış grafiğine bakılarak aşağıdaki yargılardan hangisine ulaşamaz?

- A) Yıl boyunca yağış rejimi düzenlidir
- B) Yıllık sıcaklık farkı fazladır.
- C) En fazla yağış Mart ve Eylül aylarındadır.
- D) Kış mevsimi görülmez.

**DİN KÜLTÜRÜ VE AHLAK BİLGİSİ TESTİ**

- Bu testte toplam 12 soru vardır.
- Cevaplarınızı optik formun Din Kültürü ve Ahlak Bilgisi kısmına işaretleyiniz
- Bu test için önerilen süre 12 dakikadır.

1. Cemal Reis çok hastaydı. Artık ayağa bile kalkamıyordu. Bu durum onu ve ailesini çok üzüyordu. Cemal Reis felç olmuştu. Sağlığının yerinde olduğu zamanlar namazlarını asla terk etmezdi. Her konuşmasında torunlarına "Namaz dinin direğidir" derdi. Oysa şimdi durum farklıydı. Cemal Reis'in sağ tarafı hiç tutmuyordu. Nasıl namaz kılsındı..... Ne yapmalıydı?

**Yukarıda verilen bilgilere göre Cemal Reis'in namazı ile ilgili olarak aşağıdakilerden hangisi yanlıştır?**

- A) Oturamıyorsa yatarak başıyla kılar.
- B) Namazın sünnetlerini güç yetiremezse kılmayabilir.
- C) Ayakta duramıyorsa oturarak kılar.
- D) Farz namazların rekatlarını azaltarak kılar.

2. Sabri Dede torunlarını cemaatle namaz kılmaya alıştıırıyordu. Her namaz vakti geldiğinde "Ömer, Kerem, Cemal" diye seslenir, "Abdest alın bakayım, camiye gidiyoruz" derdi. Ancak torunları bunu pek istemez hep kaytarmanın bir yolunu bulurlardı. Dedeleri önde, onlar arkada giderken kaçıp eve döndükleri bile olmuştu. Cemal'in "Evde kılsak da camide kılsak da aynı, ne fark edecek? Hadi kaçalım" diyerek diğerlerini de yoldan döndürdüğü çok olmuştur.

**Aşağıdakilerden hangisi yukarıda verilen hikayede cemaatle namaz kılmak ile ilgili Cemal'in gözden kaçırdığı şeylerden biri olamaz?**

- A) Kişinin camide kıldığı namazı, evinde kılacağı namazdan 27 derece daha sevaptır.
- B) Evi mescide uzak olanın her adımına sevap verileceği için sevabı daha fazladır.
- C) Sadece camilerde değil şartların uygun olduğu her yerde namaz kılınabilir.
- D) Namaz için en kıymetli yer mescitlerdir. Cami ehlinin en efdali (faziletli), ilk girip son çıkandır.

3. **Kunut dualarının da içerisinde okunduğu namaz aşağıdakilerden hangisidir?**

- A) Teravih
- B) Kuşluk
- C) Evvabin
- D) Vitr

4. **Kur'an-ı Kerim'de adı geçen peygamberlerin sayısı kaçtır?**

- A) 50
- B) 30
- C) 25
- D) 125

5. Okulu kırmayı adet haline getiren Cemal, Din Kültürü ve Ahlak Bilgisi dersinin olduğu gün yine okula gitmemişti. Bir hafta sonra yazılı olacaktı ve yazılı günü geldi çattı. Tam da Cemal'in gitmediği gün işledikleri konudan soru sormuştu öğretmen. Cemal ne yapacaktı şimdi! "At kafadan Cemal, belki tutar" dedi içinden ve yazmaya başladı.

- a- Farz namazlar: Cuma ve cenaze namazlarıdır.
- b-Vacip namazlar: Teheccüd ve Teravih namazlarıdır.
- c-Sünnet namazlar: Bayram ve Vitr namazlarıdır.
- d-Beş vakit namaz: Farz namazlardandır.

**Cemal'in yukarıda verdiği bilgilerden yola çıkarak aşağıdaki yargılardan hangisi yanlıştır?**

- A) Vacip namazlar ile ilgili verdiği bilgi yanlıştır.
- B) Farz namazlar ile ilgili verdiği bilgi doğrudur.
- C) Sünnet namazlar ile ilgili verdiği bilgi doğrudur.
- D) Beş vakit namaz ile ilgili verdiği bilgi doğrudur.



6. Zeynep Naz abdest alıp namaz kılacaktı ancak sular kesilmişti. Ulaşabileceği hiçbir yerde de su yoktu. Ne yapsam diye düşünürken durumu en yakın arkadaşı Cemal'e sordu. Cemal: "Sular kesikse boşver Zeynep! Namazı sonra kaza edersin" dedi. Zeynep ise "Olmaz Cemalciğim, İslam kolaylık dinidir. Su olmadığına ..... , şimdi hatırladım" dedi.

**Yukarıda Zeynep Naz'ın sonradan hatırladığı boş bırakılan yere aşağıdakilerden hangisi getirilmelidir?**

- A) Gusül abdesti almalıyım.
- B) Teyemmüm abdesti almalıyım.
- C) Su gelene kadar beklemeliyim.
- D) Boy abdesti alıp namazımı kılmalıyım.

8. Cemal arkadaşlarıyla beraber toplanmıştı. Birden namaz vaktinin çıkmasına az bir zaman kaldığını farketti. Hemen arkadaşlarına "Abdest alıp namaz kılalım, öğle namazı geçiyor" dedi. Onlar abdest alıp hazır olunca Cemal: "Namazı ben kıldırırım biliyorsunuz cemaatle kılınan namaz tek başına kılınandan daha faziletlidir" deyince arkadaşları hemen Cemal'in arkasında namaza durdular. Cemal niyet etti, namazı kıldırılmaya başladı. Sübhanake, Fatıha ve zammı sure okuduktan sonra rükuya eğildi ama hay aksi! ne diyeceğini unutmuştu.

**Cemal'in unuttuğu tesbihat aşağıdakilerden hangisidir?**

- A) Sübhane rabbiye'l-azim
- B) Sübhane rabbiye'l-ala
- C) Semiallahu limen hamideh
- D) Rabbena leke'l-hamd

7. Hz.Musa – Hz.Yusuf – Hz.İsmail – Hz.İsa – Hz.Nuh – Hz.Eyüp

**Yukarıda isimleri verilen peygamberlerden kaç tanesi rasul, kaç tanesi nebidir?**

- A) 2 rasul - 4 nebi
- B) 3 rasul - 3 nebi
- C) 4 rasul - 2 nebi
- D) 2 nebi - 4 rasul

9. Aslı teyze vefat etmişti. Cenazesi bugün defnedilecekti. Cenaze namazı kılmak için müezzin sala okudu. Ancak hiç kimse gelmemişti. Cenaze namazı cemaatle kılınması gereken bir namazdı. Oysa İslam dini cenaze namazının önemini göstermek için hükmü ..... demişti.

**Yukarıda boş bırakılan yere aşağıdakilerden hangisi getirilmelidir?**

- A) Farz-ayn
- B) Sünnet
- C) Müstehap
- D) Farz-ı kifaye





10. Aşağıdakilerden hangisi ezanın sözlerinden biri değildir?

- A) Allahu ekber, Allahu ekber, La ilahe illallah
- B) Hayye ale's-salah, Hayye ale'l felah
- C) Esselatu Ve's selamu aleyke ya Rasulallah
- D) Eşhedu en la ilahe illallah

11. Aşağıda suhurlarla ilgili olarak verilen bilgilerden hangisi doğrudur?

- A) Suhurlar bütün peygamberlere gönderilmiştir.
- B) Hz. Adem'e 30 sahife gönderilmiştir.
- C) Suhurlar günümüze kadar ulaşmıştır.
- D) Hz.İbrahim'de kendisine suhuf gönderilen peygamberlerdendir.

12. Aynur öğretmen öğrencilerinden Namazın Rükunlarını anlamlarıyla birlikte söylemelerini ister ve sırasıyla söz hakkı verir.

-**Cemal:** İftitah tekbiri; namazın sonunda Tahıyyat okumaktır.

-**Kerem:** Kıraat; namazda sure ve ayetler okumaktır.

-**Ömer:** Rükü; namazda iken ayakta durmaktır.

-**Verda:** Secde; El, burun ve alını yere koyarak durmaktır.

-**Hatice:** Kade-i Ahire; Namaza Allah-u Ekber diyerek başlamaktır.

Yukarıda verilen bilgilere bakılarak aşağıdaki değerlendirmelerden hangisi yapılabilir?

- A) Cemal, Ömer ve Hatice yanlış- Kerem ve Verda doğru bilgi vermiştir.
- B) Kerem, Ömer ve Verda doğru-Cemal ile Hatice yanlış bilgi vermiştir.
- C) Cemal, Kerem ve Ömer doğru, Hatice ve Verda yanlış bilgi vermiştir.
- D) Cemal; Hatice ve Verda doğru-Kerem ile Ömer yanlış bilgi vermiştir.

**İNGİLİZCE TESTİ**

- Bu testte toplam 12 soru vardır.
- Cevaplarınızı optik formun İngilizce kısmına işaretleyiniz.
- Bu test için önerilen süre 12 dakikadır.

**Answer the questions (1 and 2) according to the passage below.**

Hello, friends. I'm Bob. I feel very happy today. There is a funfair in our town and dad is taking us there this evening. I love funfairs a lot. I want to ride the Ferris Wheel. I think it's amazing. I don't like the ghost train at the fairs. It's terrifying. You see skeletons and vampires. They are all horrible. The roller coaster is also terrifying for me. It's fast and dangerous. Mum feels bored at the fairs because she waits for us for a long time. Therefore, she doesn't have fun very much but dad is great! He gets on the bumper cars with me. We have great fun together. I can't wait for this evening.

**1. Why does Bob feel happy?**

- A)** He is going to the funfair.
- B)** His mum is coming to the fair.
- C)** He wants to get on the ghost train.
- D)** He thinks the funfairs are terrifying.

**2. Bob thinks that ghost trains are terrifying because**

.....

- A)** the vampires are amazing
- B)** his mum doesn't have fun
- C)** the skeletons are frightening
- D)** funfairs are horrible

**For the questions (3-5), which of the following best completes the dialogue?**

**3. Jill** : Can I have some chocolate cake, please?

**Waiter** : Sorry, ..... , but we have cheese cake if you like.

- A)** enjoy it
- B)** it's all gone
- C)** yummy
- D)** please

**4. Helen** : ..... ?

**Daniel** : It is winter. I love cold weather.

- A)** What's the time
- B)** What's your favourite season
- C)** When does your school start
- D)** When is your birthday

**5. Mrs. Brown** : Hello, young boy. Which rides do you want?

**Jason** : I want to get on the roller coaster. I think it is exciting.

**Mrs. Brown** : I disagree with you. The roller coaster can be ..... for a boy at your age.

- A)** amazing
- B)** exciting
- C)** dangerous
- D)** interesting



- (I) I rest until quarter past three.  
(II) I arrive home at half past two on Fridays.  
(III) Then, I go to the dance club at half past three.  
(IV) My dance class finishes at quarter to five.

6. What is the correct order of the activities above?

- A) III - II - IV - I  
B) II - IV - I - III  
C) IV - II - I - III  
D) II - I - III - IV

8. Complete the sentence.

Helen loves the city life because .....

- A) she can grow vegetables  
B) there are lots of shopping malls  
C) it is quieter  
D) it is more relaxing than village life

Answer the questions (7-9) according to the dialogue below.

**Helen:** Which one do you like? City life or village life?

**Jonny:** I like village life. Because, villages are quieter than cities.

**Helen:** (7) ..... but cities are more enjoyable. There are a lot of shopping centres and I love shopping. Also, there is nothing to do in the village.

**Jonny:** No, you can find a lot of things to do in the village. You can grow vegetables, ride a horse and feed chickens. It is more relaxing than city life.

7. Fill in the blank according to the dialogue.

- A) You are right  
B) It's important  
C) Be careful  
D) It is time to go

9. Which of the following does **NOT** complete the sentence?

“You can ..... in the village.”

- A) ride a horse  
B) grow vegetables  
C) go to shopping centres  
D) feed chickens



Answer the questions (10-12) according to the text below.

I'm Laura. I live in a big city but I don't like city life. I think village life is better and more relaxing than city life. People in villages can grow their own fruit and vegetables, so they are happier and healthier. On the other hand, there are a lot of shopping centres in cities. Some people think that they can find everything they want but cities are crowded and noisy. As a result, there is always traffic jam in streets. You can see unhappy people walking around because life in the cities is difficult and stressful.

10. What can be the best title for the text?

- A) Laura, The Happy Girl
- B) How Happy You Are
- C) Fruit and Vegetables
- D) Disadvantages of Living in A City

11. Complete the sentence.

The city life is not easy, so ....

- A) you can find everything easily.
- B) people in cities are not happy.
- C) there are many shopping centres.
- D) the village life is more relaxing.

12. Which question is **NOT** answered in the text?

- A) Where does Laura live?
- B) What are the advantages of living in villages?
- C) Why are people unhappy in cities?
- D) Which city does she want to live in?



**Körfez**  
EĞİTİM KURUMLARI

**MATEMATİK TESTİ**

- Bu testte toplam 12 soru vardır.
- Cevaplarınızı optik formun Matematik kısmına işaretleyiniz
- Bu test için önerilen süre 20 dakikadır.

1.

a2431b

Yukarıda verilen rakamları farklı altı basamaklı sayı 3 ile kalansız bölünebildiğine göre  $a+b$  toplamı aşağıdakilerden hangisi olamaz?

- A) 11      B) 8      C) 5      D) 2

2. Bir su deposunda 580 litre su vardır. Bu su deposundan her gün bir önceki günün iki katı kadar su kullanılmaktadır. **2. gün 90 litre su kullanıldığına göre 3. günün sonunda depoda kaç litre su kalır?**


- A) 315      B) 265      C) 255      D) 215

3. 120 kg'lık ve 180 kg'lık iki çuval fındık birbirine karıştırılmadan ve hiç artmayacak şekilde eşit ağırlıklı torbalara paylaştırılacaktır.


Bu paylaşım işlemi için en az kaç tane torbaya ihtiyaç vardır ?

- A) 5      B) 20      C) 30      D) 60

4.



1.levha



2.levha

Özdeş iki şeffaf levhanın üst yüzeyleri yukarıdaki gibi eş karelere ayrılmıştır.

- \* 1.levhadaki eş karelerin beşte ikisini sarı renge,
- \* 2.levhadaki eş karelerin altıda beşini kırmızı renge boyanıyor.

Levhaların köşeleri üst üste gelecek şekilde konulduğunda sarı ve kırmızı boyalı renklerin üst üste geldiği kareler turuncu renkte görünür.

Buna göre en az kaç kare turuncu renkte görünür?

- A) 6      B) 7      C) 8      D) 10

5. Ela 4 litre suya 1 litre limon suyu katarak 5 litrelik bir karışım hazırlıyor. **1 litre limon suyu ortalama 12 limondan elde edildiğine göre 30 litrelik karışım yapmak için kaç tane limon gerekir?**

- A) 60      B) 64      C) 72      D) 76

6. Beyza dört arkadaşıyla bir lokantaya yemeğe gidiyor. Her biri 22 TL olan kebaplardan birer porsiyon yiyor ve 3 TL olan ayranlardan birer tane içiyor. **Ödedikleri toplam para aşağıdaki işlemlerden hangisi ile bulunabilir?**

- A)  $4 \cdot (22+3)$                       B)  $4 \cdot (22-3)$   
C)  $5 \cdot (22+3)$                       D)  $5 \cdot (22-3)$

7. Bir dans grubuna 2 erkek daha katılırsa erkek ve kızların sayısı eşit oluyor. Eğer gruptan iki erkek ayrılırsa kızların sayısı erkeklerin sayısının 2 katı oluyor. **Buna göre başlangıçta grupta toplam kaç kişi vardır?**

- A) 15                      B) 14                      C) 17                      D) 16

8. 75 litre süt 3 litrelik ve 6 litrelik şişelerde satılacaktır. 3 litrelik şişeler 3 lira, 6 litrelik şişeler 4 liradan satılmaktadır. **Bu satıcının kazancı en az kaç liradır?**

- A) 45                      B) 48                      C) 51                      D) 54

9. Üç sayının toplamı 45'tir. **Birinci sayı ikinci sayıdan 10 fazla, ikinci sayı üçüncü sayının 3 katı olduğuna göre en küçük sayı kaçtır?**

- A) 30                      B) 23                      C) 15                      D) 5

10. 720 sayısı asal çarpanlarının çarpımı şeklinde aşağıda verilmiştir.

$$720 = 2^A \cdot 3^B \cdot 5^C$$

$$I. (A + B)^C = 6$$

$$II. A^B = B^A$$

$$III. (A + C)^B = 25$$

$$IV. (B + C)^A = 27$$

**Buna göre yukarıdaki işlemlerden hangisinin sonucu yanlıştır?**

- A) I, III ve IV                      B) I, II ve III  
C) Yalnız II                      D) Yalnız IV

11. Kıvanç 160 cm uzunluğundaki bir ipi uzunluğu 5 cm olana kadar a kez ortadan katlıyor. Efe 64 cm uzunluğundaki bir ipi uzunluğu 2 cm olana kadar b kez ortadan katlıyor.

**Buna göre  $\frac{a}{b}$  kaçtır?**

- A) 1                      B) 2                      C)  $\frac{1}{2}$                       D)  $\frac{2}{3}$

12. ABC üç basamaklı bir sayıdır. Bu sayı ile ilgili,

- AB iki basamaklı bir sayı olup 5 ile kalansız bölünebilmektedir.
- BA iki basamaklı bir sayı olup 4 ile kalansız bölünebilmektedir.
- ABC tam kare bir sayıdır.

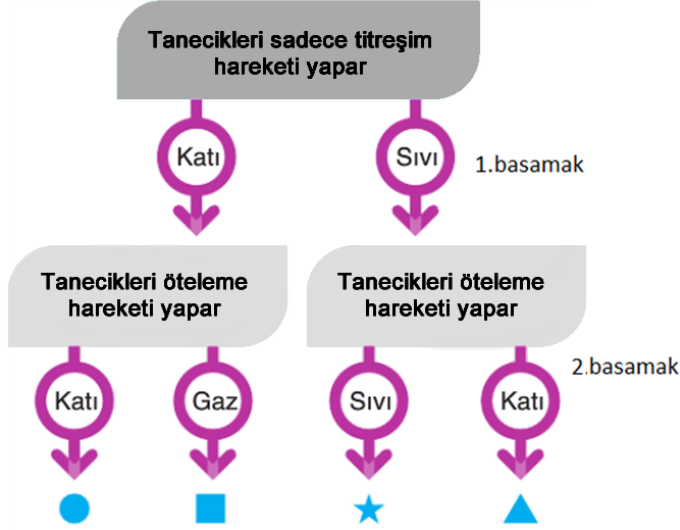
**Buna göre ABC sayısının kaç tane asal çarpanı vardır?**

- A) 1                      B) 2                      C) 3                      D) 5

**FEN BİLİMLERİ TESTİ**

- Bu testte toplam 12 soru vardır.
- Cevaplarınızı optik formun Fen Bilimleri kısmına işaretleyiniz
- Bu test için önerilen süre 20 dakikadır.

1.



Maddelerin hareket durumu ile ilgili bilgilerin olduğu yukarıdaki şemada hareket yönlerinde ilerleyen Ayşe ■ çıkışına, Fatma ▲ çıkışına ulaşmıştır.

Buna göre;

I-Ayşe her iki basamakta başarılı sonuç almıştır.

II-Fatma her iki basamakta başarısız sonuç almıştır.

III-Fatma ★ dan çıkış yapsaydı, bir başarılı, bir başarısız sonuç alırdı.

**Yargılarından hangisi ya da hangileri doğrudur?**

- A) I-II-III
- B) Yalnız- I
- C) Yalnız -II
- D) II-III

2.



Berra

villüs 3	kasların vücutta tutunmasını sağlar 6	aort 9
safra 2	uyuk 5	bazı madensel tuzları depolar 8
kan hücrelerini üretir 1	tansiyon 4	pıhtılaşma 7




Ödül

2. Berra, şekildeki "kemiklerle ilgileri seçiyorum" oyunu oynayarak ödülü almak istiyor. Oyunu kuralları şunlardır;

- Sadece kemiklere ait olanların üzerine basılabilir.
  - Tabloda ileri veya çapraz bir kareye basılarak ilerlenebilir
- Buna göre Berra, ödüle ulaşmak için sırasıyla hangi numaralara basmalıdır?**

- A) 1,5,6,8
- B) 3,5,8
- C) 2,6,9,8
- D) 1,5,8

3.



Öğrenciler beden eğitimi dersinde halat çekme yarışı yapmaktadır. Öğretmenleri yarışma kuralını aşağıdaki gibi açıklar.

Yarışmanın kuralı: Grupta yer alan herhangi bir öğrenci iki grup arasındaki çizgiyi geçerse diğer grup yarışmayı kazanacaktır.

**Buna göre aşağıdakilerden hangisi doğrudur?**

- A) L grubundan bir öğrencinin ayağı çizgiyi geçerse L grubu oyunu kazanır.
- B) K grubu öğrencileri 5N,9N ,8N L grubu öğrencileri 3N,9N,11N kuvvet uygularsa yarışmayı L grubu kazanır.
- C) K grubundan bir öğrencinin ayağı çizgiyi geçerse K grubu oyunu kazanır.
- D) L grubu öğrencileri 12N,4N ,8N K grubu öğrencileri 6N,9N,9N kuvvet uygularsa yarışmayı L grubu kazanır.




4. Gezegen kartları hazırlayan Temel, ön yüzüne gezegenin resmini çizerken, arka yüzüne gezegenlerin özelliklerini yazıyor. Temel'in kartlarından bazıları aşağıda verilmiştir.

\*En soğuk gezegendir  
\*13 uydusu vardır.  
\*4.büyük gezegendir.

\*En sıcak gezegendir  
\*Diğer gezegenlerden ters yönde döner.  
\*3.küçük gezegendir.

Buna göre kartların ön yüzündeki gezegenlerin resimleri sırasıyla aşağıdakilerden hangisinde doğru verilmiştir?



5.

GEZEGENLER	ÖZELLİKLERİ
Jüpiter	En çok uydusu olan gezegendir.
Uranüs	Dönüşü yan yatmış varile benzeyen gezegendir.
Satürn	Güneş'e yakınlık bakımından 5. Gezegendir.
Mars	Kızıl gezegen olarak adlandırılır.
Dünya	En büyük iç gezegendir.
Merkür	Büyüklük bakımından 8.gezegendir.
Venüs	En sıcak gezegendir.
Neptün	En soğuk gezegendir.

Yukarıdaki tabloda gezegenlerin özelliklerini belirten Naz ile ilgili aşağıdakilerden hangisi söylenebilir?

- A) Tabloyu tamamen doğru doldurmuştur.  
B) Jüpiter ve Satürn'e ait özellikleri karıştırmaktadır.  
C) En sıcak gezenin Merkür olduğunu bilmemektedir.  
D) Dünya'nın büyüklüğünü karıştırmaktadır.

6.



Yukarıda yapılandırılmış dallanmış ağaç etkinliği yer almaktadır. Etkinlikte ifade doğru ise D, yanlış ise Y olarak ilerlenir. Sırası ile tamamı doğru olacak ve tamamı yanlış olacak şekilde ilerlendiğinde hangi çıkışa ulaşılır?

- A) 2-7  
B) 1-5  
C) 2-6  
D) 3- 6



7. Zafer Öğretmen, dolaşım sistemi ile ilgili Tablo-1'de verilen soruları öğrencilere yöneliyor.

Tablo -1

	Sorular	Puan
1	Küçük kan dolaşımının amacı nedir?	10
2	Büyük kan dolaşımı kalbin hangi bölümünde başlayıp hangi bölümünde biter?	10
3	Kalbe kan getiren damarın adı nedir?	10
4	Kanda oksijen taşıyan kan hücresi hangisidir?	10
5	Akciğer dolaşım sistemi organı mıdır?	10

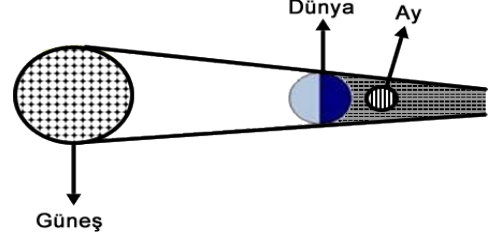
Ela ve Elçin Tablo-1'deki sorulara aşağıdaki cevapları veriyorlar.

	ELA	ELÇİN
1	Kanı temizlemek.	Vücuda temiz kanı göndermek.
2	Sağ alt odacıktan başlar, sol üst odacıkta biter.	Sol alt odacıktan başlar, sağ üst odacıkta biter.
3	Toplardamar	Atardamar
4	Akyuvar	Alyuvar
5	Evet	Hayır

Buna göre Ela ve Elçin'in aldıkları puanlar hangi seçenekte doğru verilmiştir?

	<u>Ela</u>	<u>Elçin</u>
A)	50	40
B)	30	50
C)	20	30
D)	30	40

8. Aşağıdaki şekilde Güneş, Dünya ve Ay'ın birbirlerine göre konumları verilmiştir. Öğretmen, öğrencilerinden verilen şekle göre tabloda doğru olanların başına "D", yanlış olanların başına "Y" harfi koymalarını istemiştir.

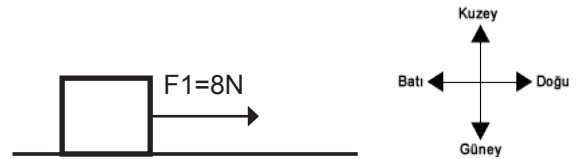


1	Dünya Güneş ile Ay arasına girmiştir.
2	Şekilde Ay tutulması gösterilmiştir.
3	Dünyanın gölgesi Ay'ı karanlıkta bırakır.

Can verilen tabloyu doldururken sadece bir hata yaptığına göre Can'ın cevabı aşağıdakilerden hangisidir ?

	1	2	3
A)	D	D	D
B)	Y	Y	Y
C)	Y	Y	D
D)	D	Y	D

9. Kare şeklindeki cisme 2 kuvvet uygulanmaktadır. Uygulanan birinci kuvvetin yönü aşağıda gösterilmiştir.

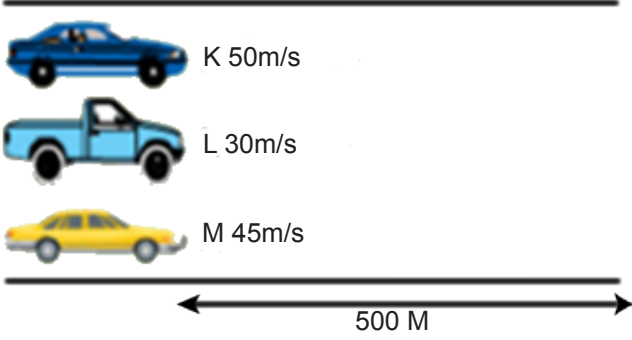


Cisme etki eden net kuvvet batı yönünde 10N olduğu bilindiğine göre şekil ile ilgili aşağıdaki yorumlardan hangisi doğrudur? (Sürtünmeler önemsenmemektedir.)

- A) F2 kuvvetinin büyüklüğü 2 N'dur.
- B) F2 kuvvetinin doğrultusu batıdır.
- C) Dengeleyici kuvvet batı yönünde ve 10N büyüklüğündedir.
- D) F2 kuvvetinin yönü bileşke kuvveti ile aynıdır.



10.



Yukarıda verilen şekilde üç arabanın süratleri ve gidilen yolun uzunluğu verilmiştir. Arabalar sabit süratli hareket yaparak parkuru tamamlayacaklardır.

**Buna göre arabaların parkuru tamamlama süreleri arasındaki ilişki aşağıdakilerden hangisidir ?**

- A)  $K=L=M$
- B)  $K>L=M$
- C)  $L>M>K$
- D)  $K>M>L$

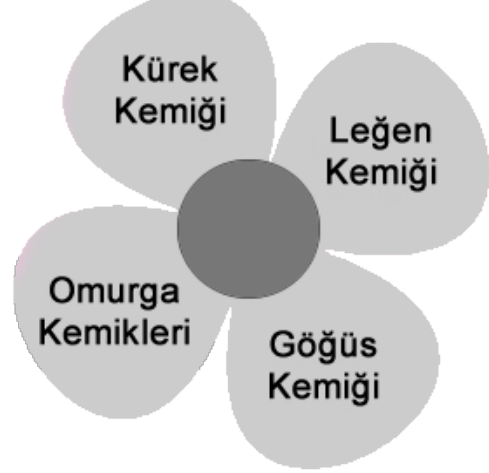
11. Aşağıdaki görselde vücudumuzdaki kasların bulunduğu bazı organlar verilmiştir.



Buna göre verilen organlar içerisinde bulunan kas çeşitlerine göre sınıflandırıldığında hangisi **farklı** bir grupta yer alır?

- A) Kol
- B) Bacak
- C) Parmak
- D) Mide


12.




Yukarıdaki çiçek modelinin yapraklarına insan iskeletindeki bazı yassı kemik çeşitleri yazılmış ve bir hata yapılmıştır. Hata yapılan yaprağın koparılması istenmektedir.

**Buna göre çiçeğin son şekli aşağıdakilerden hangisi olur ?**


A)



B)



C)



D)

