

Öğrenci  
Adı :  
Soyadı :

### TÜRKÇE TESTİ

- Bu testte toplam 12 soru vardır.
- Cevaplarınızı optik formun Türkçe kısmına işaretleyiniz
- Bu test için önerilen süre 12 dakikadır.

İnsanların çoğu bugününe bakıp sefasını sürüyor,  
anı yaşıyor sadece. Yaptığı işler ile kibirlenip koltuk  
kabartıyor. Oysaki hayat ucu bucağı görünmeyen,  
bir dalgalı bir durgun deniz. Ve o denizde ne zaman  
fırtına çıkacağı belli olmaz. Bunu anlayıp buna göre  
yaşamalıyız. "Ne oldum dememeli ne olacağım demeli."  
diyerek hayatımıza yön vermeliyiz.

1 ve 2.soruyu yukarıdaki parçaya göre cevaplayınız.

**1.Yukarıdaki parçadan aşağıdakilerden hangisi çıkarılabilir?**

- A) Bugünümüzün değerini bilerek yaşamalıyız.
- B) Geleceğimiz için bugünden çok çalışmalıyız.
- C) Bugün ne durumdaysak geleceğimiz de öyle olur.
- D) Bugünüme bakıp geleceğimizin aynı olacağını düşünmemeliyiz.

**2.Yukarıdaki parçada hangi söz sanatı kullanılmıştır?**

- A) Abartma
- B) Benzetme
- C) Konuşturma
- D) Kişileştirme

Gelir gider gönülden  
Nice deli sevdalar  
Bir tek o bakidir  
Her daim yanımda kalan

Her anımı bilen  
Bana yol gösteren  
Beni dünyaya getiren  
En sevgilidir o her an.

**3.Yukarıdaki şiiri şair kim için yazmıştır?**

- A) Sevgilisi
- B) Kardeşi
- C) Annesi
- D) Dostu

Punduna getirmek  
Paçalarından akmak  
Parmağında oynatmak  
Paçayı kaptırmak

**4. Aşağıdakilerden hangisi bu deyimlerden herhangi birinin anlamı değildir?**

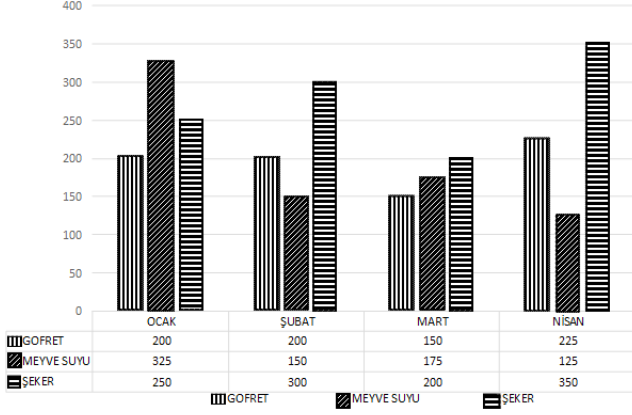
- A) Elde bulunan bir şey ile saatlerce oynamak
- B) Yakalanmak, ele geçirilmek
- C) Bir şeyi yapmak için uygun zamanı, yeri seçmek
- D) Pislik ve kir çok olmak

5. (1)Kımıldamadan bahçe kapısının yanında bekledim.  
(2)Sokak, direklere asılı küçük şirin lambalarla  
aydınlatılmıştı.(3)Yüksek sütleğen kümeleri gölgeler  
oluşturuyordu.(4)Akşamları havanın kapalılığı insana  
kasvet veriyordu.(5)Kışları günler kısa sürüyordu ve işten  
dönene kadar hava kararıyordu.

**Yukarıdaki parçada numaralandırılmış cümlelerin hangilerinde öznel ifadeye yer verilmiştir?**

- A) 1 ve 5
- B) 2 ve 3
- C) 4 ve 5
- D) 2 ve 4





6. Yukarıdaki grafikte bir bakkalda satılan gofret, meyve suyu ve şekerin aylara göre dağılımı verilmiştir.

Grafiğe göre aşağıdakilerden hangisi çıkarılamaz?

- A) En çok şeker nisan ayında satılmıştır.
- B) En az meyve suyu şubat ve mart ayında satılmıştır.
- C) Gofretin en çok satıldığı ayda en çok satılan ürün şekerdir.
- D) Ocak ayındaki meyve suyu satışı şubat ayındaki şeker satışından fazladır.

7. Yolup getirdiği otları kovaya atınca sular dışarıya taştı,  
1 2  
varıp söyledim aşçıya.  
3 4

Yukarıdaki cümlede numaralandırılmış sözcük köklerinden hangisinin türü doğru verilmiştir?

- A) 1.sözcük isim köküdür.
- B) 2.sözcük isim köküdür.
- C) 3.sözcük isim köküdür.
- D) 4.sözcük isim köküdür.

8.

- 1-Senin paran burada geçmiyor.
- 2-Bu para artık geçmiyor.
- 3-Dünki olay gazetede geçmiyor.
- 4-O meseleyi geçelim.
- 5-O bahsi geç!
- 6-Yavaş yavaş bu hırsı geçti.

Yukarıdaki cümlelerde "geçmek" sözcüğü kaç farklı anlamda kullanılmıştır?

- A) 3
- B) 4
- C) 5
- D) 6

MERVE	SEFA	DURU	KUZEY
-li eki	-cil eki	-sız eki	-sal eki
demli	evcil	damsız	kırsal
gizli	bencil	cansız	açısız
hisli	acil	anasız	ruhsal
lifli	etçil	tatsız	masal

9. Hakan Öğretmen; Merve, Sefa, Duru ve Kuzey'den "-li, -cil, -sız, -sal" yapım ekleri ile ilgili örnek kelimeler yazmalarını istemiştir.

Buna göre yukarıdaki tabloda hangi öğrenciler belirtilen ekleri almayan kelime yazmıştır?

- A) Kuzey-Merve
- B) Duru-Merve
- C) Duru-Sefa
- D) Kuzey-Sefa



10. Çocuklar için yazılmamış bir kitap ancak resimleriyle çocukların ilgisini çeker. Hele içinde resim olmayan yetişkinler için yazılmış kitaplar çocukların ilgisini çekmek için çok uzun süre ele alınmayı beklerler. Bütün çocukların can sıkıntısından kitapları karıştırmaları, merak ederek altlarını okuması beklenemez. Bu yüzden sadece okumayı sevdirmek için bile olsa çocuklara yönelik bir edebiyatın olması gerekir.

**Yukarıdaki parçanın ana fikri nedir?**

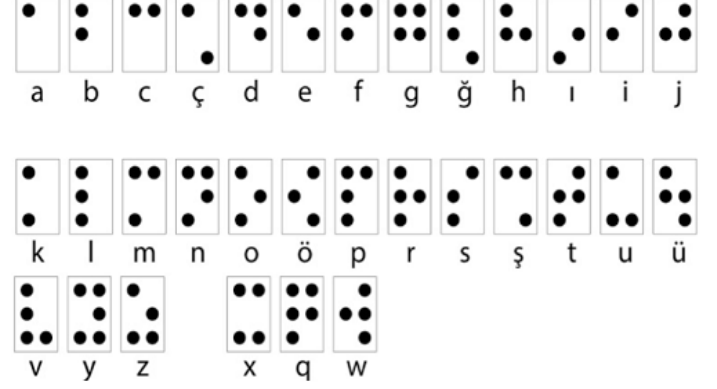
- A) Çocukların ilgisini çekecek kitaplar okunmalıdır.
- B) Edebiyatımızda çocukların ilgisini çekebilecek kitaplara da yer verilmelidir.
- C) Resimli kitapların yazımı çoğaltılmalıdır.
- D) Çocuklara kitap okumayı sevdirmeye çalışmalıyız.

11. Karşımda bir heykel gibi dikilmiş bana bakıyordu ( )  
Gözleri, bir denizin içinde boğulurcasına göz hapsine almıştı beni ( )  
küçüldükçe küçülüyorum, utancımдан yere bakıyordum ( )  
Kısık sesle ( )  
( )Nasıl yaptın bunu bilmem ( )  
Yerden kafamı kaldırmadan üzgün şekilde ( )  
( )Yanlışlıkla çarptım, kırılmasını istemezdim ( )  
Bana kızdın mı ( )


**Yukarıdaki parçada boş bırakılan yerlere sırasıyla hangi noktalama işaretleri getirilmelidir?**

- A) ( . ) ( ; ) ( . ) ( : ) ( \_ ) ( . ) ( : ) ( \_ ) ( . ) ( ? )
- B) ( . ) ( : ) ( . ) ( : ) ( \_ ) ( . ) ( ; ) ( \_ ) ( . ) ( ? )
- C) ( . ) ( : ) ( . ) ( : ) ( \_ ) ( . ) ( : ) ( \_ ) ( . ) ( ! )
- D) ( . ) ( ; ) ( . ) ( : ) ( \_ ) ( . ) ( ; ) ( \_ ) ( . ) ( ! )

12. Braille alfabesi, görme engelli kişilerin hayatlarını bir anlamda kolaylaştırmak için icat edilmiş olan en önemli alfabe türlerinden bir tanesidir.



Yukarıda alfabemizdeki harfler ve Braille alfabesindeki karşılığı olan işaretler verilmiştir.



**Buna göre yukarıda Braille alfabesi ile verilmiş olan kelimenin eş anlamlısının Braille alfabesindeki gösterimi aşağıdakilerden hangisinde doğru verilmiştir?**

- A)
- B)
- C)
- D)

**SOSYAL BİLGİLER TESTİ**

- Bu testte toplam 12 soru vardır.
- Cevaplarınızı optik formun Sosyal Bilgiler kısmına işaretleyiniz
- Bu test için önerilen süre 12 dakikadır.

1. Emir odasını her gün düzenli bırakacağı konusunda annesine söz vermiştir. Ancak ertesi gün okula geç kaldığı için yatağını düzeltmeden evden çıkmıştır.

**Emir bu davranışı ile aşağıdakilerden hangisini yerine getirmemiştir?**

- A) Hak
- B) İhtiyaç
- C) Sorumluluk
- D) Özgürlük

2. Dünya üzerindeki bütün çocukların doğuştan sahip olduğu haklara **Çocuk Hakları** denir. Bazen bu hakların ihlal edildiği durumlarla karşılaşmaktadır. Okul çağına gelmiş çocukların okula gönderilmemesi durumunda çocukların eğitim hakları ihlal edilir. Devlet kurumları tarafından ücretsiz olarak uygulanan aşuların aksatılması veya hiç yaptırılmaması halinde çocuğun sağlık hakkını kullanması engellenir. Ait olduğu grup veya kurumlarda çocukların düşüncelerini özgürce ifade etmelerinin engellenmesi de çocuk haklarının ihlaline örnektir.

**Dünya çocuklarının haklarının ihlal edilmemesi, korunması ve çocukların yaşam koşullarının iyileştirilmesi amacıyla Birleşmiş Milletler tarafından kurulan kuruluşun adı aşağıdakilerden hangisidir?**

- A) KIZILAY
- B) UNESCO
- C) UNICEF
- D) Çocuk Hizmetleri Genel Müdürlüğü

3.



**Ziggurat**

Ziggurat, Antik Mezopotamya vadisinde ve İran'da terası bulunan piramitlere benzeyen tapınak kulesidir. İlk Ziggurat örnekleri Sümerlere aittir. Sümerlerin yaptığı Zigguratlar çok katlı yapılarıdır. Bu tapınaklar 3 bölümden oluşuyordu. İlk katlar erzak deposu, orta katlar tapınak ve en üst katlar da rasathane olarak kullanılıyordu.

**Sadece bu bilgilere göre Sümerlerle ilgili;**

- I. Astronomi bilimiyle ilgilenmişlerdir.
- II. Tapınakları farklı amaçlar için de kullanmışlardır.
- III. Site şehir devletleri şeklinde yaşamışlardır.

**yargılarından hangilerine ulaşılabilir?**

- A) Yalnız I
- B) I ve II
- C) II ve III
- D) I, II ve III

4. Olayların birden fazla nedeninin ve sonucunun olması ve insanların bu olaylardan farklı şekillerde etkilenmesine olayların çok boyutluluğu denir.

**I. Doğal Afetler II. Covid 19 Salgını III. Küresel Isınma**  
**Buna göre yukarıda verilen durumlardan hangisi veya hangileri çok boyutlu olay olarak nitelendirilir ?**

- A) I, II, III
- B) II ve III
- C) I ve II
- D) Yalnız II



5.



**Seracılık;** kapalı alanlarda mevsimi olmayan tarım ürünlerinin yetiştirilmesidir. Seracılık için istenen en önemli faktör yaz ve kış ayları arasındaki sıcaklık farkının fazla olmamasıdır. Kışların ılık olması seranın ısıtma maliyetini düşüreceğinden bu ekonomik faaliyet ülkemizde en çok ..... Bölgesi'nde yapılmaktadır.

**Yukarıda verilen boşluk seçeneklerden hangisiyle tamamlanmalıdır?**

- A) Ege  
C) Marmara  
B) Güneydoğu Anadolu  
D) Akdeniz

6. - Asurluların başkenti .....-I-.....kentidir.  
- Hititler tanrılarına hesap vermek amacıyla .....-II-  
..... adı verilen yıllıklar yazmışlardır.  
- Frigler .....-III-..... adlı çengelli iğneleri yapmışlardır.

**Yukarıdaki boşlukları sırasıyla doldurduğumuzda aşağıdaki şıklardan hangisi doğru olur?**

-I-	-II-	-III-
A) Hattuşa	Anal	Kibebe
B) Ninova	Fibula	Anal
C) Ninova	Anal	Fibula
D) Sardes	Midas	Kibebe

7.

Denizin, karanın içine doğru sokulduğu büyük girintilerdir.



**Yukarıda tanımı ve görseli verilen yeryüzü şekli aşağıdakilerden hangisidir?**

- A) Körfez  
C) Vadi  
B) Plato  
D) Burun

8. Doğada insan eli değmeden oluşan,gezilip görülebilecek eşsiz güzellikteki yerler ve unsurlara **doğal varlık** denilmektedir.Ülkemiz doğal varlıklar bakımından oldukça zengindir.Doğal varlıklar kendiliğinden oluşur ve toplumlar tarafından keşfedilir.

**Yukarıdaki bilgiler dikkate alındığında aşağıdakilerden hangisinin doğal varlık olduğu söylenebilir?**

- A) Sümela Manastırı  
B) Cennet Cehennem Obrukları  
C) Efes Antik Kent  
D) Aspendos



9.

Yazları serin, kışları ılık ve her mevsim yağışlıdır.  
Bitki örtüsü ormandır.  
Nem fazla olduğu için günlük ve yıllık sıcaklık farkı azdır.  
Hava genellikle bulutludur.



Yazları sıcak ve kurak; kışları ılık ve yağışlıdır.  
Bitki örtüsü makidir.  
Günlük ve yıllık sıcaklık farkları azdır.  
Güneşli gün sayısı fazladır.

Yazları sıcak ve kurak; kışları soğuk ve kar yağışlıdır.  
Bitki örtüsü bozkırdır.  
Nem az olduğundan günlük ve yıllık sıcaklık farkları fazladır.

**Yukarıda Türkiye’de görülen iklimlerin özellikleri verilmiştir.Bu bilgilerden yola çıkılarak aşağıdaki bilgilerden hangisine ulaşamaz?**

- A) Ülkemizin kuzey kısımları yıl içinde bol yağış almaktadır.  
B) Ülkemizde en yaygın bitki örtüsü makidir.  
C) Ülkemizde kış sıcaklıklarının en düşük olduğu iklim Karasal İklimdir.  
D) Güneşli gün sayısı en az olan iklim Karadeniz İklimi’dir.

10. Dağlık alanlarda yoğun kar yağışından dolayı yamaçlarda tutunamayan kar kütleleri bulunduğu yerden koparak yuvarlanır, yuvarlandıkça büyür ve çığ oluşur.

**Bu olayın aşağıdaki illerimizden hangisinde görülme ihtimali daha fazladır?**

- A) Konya  
B) Edirne  
C) Erzincan  
D) Uşak

11. 5.Sınıf öğrencisi Ekin televizyonda yöresel halk oyunları yarışması seyretmiştir. Bu yarışmada sırası ile;

- Artvin ekibi,
- Trakya ekibi
- Aydın ekibi

sahne almıştır.

**Ekin sırası ile hangi yöresel oyunları izlemiştir?**

A)	Horon	Kaşık	Hora
B)	Atabarı	Hora	Kaşık
C)	Horon	Kaşık	Zeybek
D)	Atabarı	Hora	Zeybek

12. İnsanlar, hayatlarını devam ettirebilmek için çeşitli iş kollarında çalışmaktadırlar. Tarım,hayvancılık, balıkçılık, sanayi, turizm bu iş kollarından bazılarıdır. Bu iş kollarına ise ekonomik faaliyet denilmektedir.Ekonomik faaliyetler ülke içerisinde nüfus dağılışında büyük oranda etkilidir. Özellikle sanayisi gelişmiş bölgelerimizde nüfus miktarı daha fazladır.

**Buna göre ülkemizde sanayi faaliyetlerinin geliştiği ve nüfusu fazla olan bölgelerimizden biri aşağıdakilerden hangisidir?**

- A) Güneydoğu Anadolu Bölgesi  
B) Doğu Anadolu Bölgesi  
C) Karadeniz Bölgesi  
D) Ege Bölgesi

**DİN KÜLTÜRÜ VE AHLAK BİLGİSİ TESTİ**

- Bu testte toplam 12 soru vardır.
- Cevaplarınızı optik formun Din Kültürü ve Ahlak Bilgisi kısmına işaretleyiniz
- Bu test için önerilen süre 12 dakikadır.

**1. Semi, Vahdaniyet, Kudret, Tekvin, Basar.**

Yukarıdaki kelimeleri kullanarak bir şiir yazarsak, şiirin konusu aşağıdakilerden hangisi olurdu?

- A) Allah'ın sıfatları
- B) Ahiret hayatı
- C) Peygamberlerin özellikleri
- D) Kaza ve kader

**2. Tevhid:**Bir olmak demektir.

**Şirk:** Allah'a ortak koşmak demektir.

**Vücut:** Allah'ın var olması ve varlığının sonsuz olması demektir.

**Rahman:** Yaratıklarına nimet veren, koruyup gözetken merhametli ve sonsuz rahmeti bulunan demektir.

**Rahim:** Ahirette yalnız Müslümanlara merhamet edendir.

Yukarıda anlamları verilen ifadelerden kaç tanesi doğrudur?

- A) 2
- B) 3
- C) 4
- D) 5

- 3.** - Kur'an-ı Kerim'in indirildiği aydır.  
- Sünnet orucun tutulduğu aydır.  
- İçinde Miraç gecesi bulunur.  
- Peygamberimizin doğduğu aydır.

Yukarıdaki Ramazan ayı ile ilgili verilen özelliklerden kaç tanesi doğrudur?

- A) 1
- B) 2
- C) 3
- D) 4

- 4.** 1- Oruç tutmayı çok sever, her gün oruç tutardı.  
2- Zebur adlı kutsal kitap kendisine gönderilmiştir.  
3- Demiri elinde yumuşatarak zırh yapmıştır.  
4- Hükümdar ama mütevazı bir peygamberdir.  
5- Rüzgar emrine verilmiştir.  
6- Sesi çok güzel ve tesirlidir.

Yukarıda verilen özelliklerden hangileri Hz. Davud'a aittir?

- A) 1-2-3-4
- B) 2-3-4-6
- C) 2-3-4-6-5
- D) 1-2-3-4-6

- 5.** Ayşe teyzenin en güzel davranışlarından biri onun, bir kimseyle karşılaştığında veya yanından uzaklaştığında ona söz ve işaretle nezaket gösterisi yapmasıydı. Onun vefatından sonra mahalledeki komşular hep onunla karşılaştıkları ve yanına gittikleri zaman gösterdiği nezaketi anlatmışlardı birbirlerine.

**Buna göre Ayşe teyzenin hayatta iken aşağıdakilerden hangisine önem verdiği söylenebilir?**

- A) Bağışlamaya
- B) Böbürlenmeye
- C) Selamlaşmaya
- D) Dayanışmaya



6. Verda üniversite sınavına giriyordu. Çok çalışmıştı, sınav günü gelip çıktığında dua etmeye başladı. " Nasip olur da Tıp Fakültesini kazanırsam 50 gün oruç tutacağım' dedi.

**Verda'nın yaptığı dua kabul olduğunda tutması gereken oruç aşağıdakilerden hangisidir?**

- A) Kaza orucu
- B) Şükür orucu
- C) Adak orucu
- D) Sünnet oruç

8. **Farz:** Yapılması Allah (c.c) tarafından kesin olarak emredilen fiil ve davranışlardır.

**Vacip:** Farz kadar kesin olmayan, yapılması emredilen iş ve davranışlardır.

**Müstehap:** Yapılması hoşça gitmeyen iş ve davranışlardır.

**Sünnet:** Peygamberimizin yaptığı ve bizimde yapmamızı tavsiye ettiği fiil ve davranışlardır.

**Yukarıda verilen kavramlar ve tanımlar incelendiğinde hangi kavram yanlış açıklanmıştır?**

- A) Farz
- B) Vacip
- C) Sünnet
- D) Müstehap



**Körfezim**  
EĞİTİM KURUMLARI

7. **Ömer:** Herkesin duyacağı şekilde yüksek sesle müzik dinlemeyi çok seviyorum ve yüksek sesle dinliyorum

**Cemal:** Her sabah sınıfa girdiğimde arkadaşlarıma selam veriyorum.

**Kerem:** Yemekhanede sıra beklemeyi hiç sevmiyorum. Arkadaşımın önüne geçiyorum.

**Hatice:** Bana ders çalıştıran öğretmenime her dersten sonra teşekkür ediyorum.

**Ömer, Cemal, Kerem ve Hatice'nin davranışlarına bakıldığında hangilerinin nezaket kurallarına uygun olmadığı söylenebilir?**

- A) Ömer ve Kerem
- B) Kerem ve Cemal
- C) Cemal ve Ömer
- D) Hatice ve Ömer

9. **Ramazan ayına özel olarak yapılacak ibadetler aşağıdakilerden hangileridir?**

- 1- Teravih namazı kılmak
- 2- Farz olan orucu tutmak
- 3- Zekat vermek
- 4- Hacca gitmek
- 5- Fitre vermek

- A) 1-2-5
- B) 1-2-3
- C) 1-2-4
- D) 1-3-5





10. Teknolojinin son derece iyi bir seviyeye geldiği bu dönemde özellikle gençler arasında yaygın olan sosyal medya araçları bilinçli kullanılmamaktadır. Gençlerimiz ve çocuklarımız internette edep ilkelerine aykırı sitelere girmemeli, şiddet-suç ve kumar içerikli oyunları oynamanın bize zarar vereceğini unutmamalıdır.

**Yukarıdaki metinde yapılan hatırlatma aşağıdakilerden hangisini engellemeye yönelik olamaz?**

- A) Kaba ve ahlaka aykırı davranışlar edinmeyi
- B) Başkalarına yardım etmeyi
- C) Kumar gibi şans oyunlarına alışmayı
- D) Zamanımızı boşa harcamayı

12. “Üç kişi bir arada olduğunuzda, iki kişi üçüncü kişiyi bırakarak kendi arasında fısıldaşmasın. Bu onu üzer.” (Hadis)

**Aşağıdaki öğrencilerden hangisinin yaptığı davranış yukarıdaki hadise aykırıdır?**

- A) Cemal ve Zeynep'in kuzenleri Hatice'den uzaklaşarak sessizce konuşmaları
- B) Ömer ve Kerem'in Verda'nın da aynı ortamda bulunduğu sınıfta hep beraber sohbet etmesi
- C) Kemal'in öğretmenin sorduğu soruya söz hakkı alarak cevap vermesi
- D) Hüseyin'in kardeşi Kemal ile ortak karar alarak iş yapması



**Körfez**  
EĞİTİM KURUMLARI

11. Henüz 8 yaşında olan Zeynep Naz, okulda Ramazan ayında oruç tutulduğunu öğrenmiştir. Bir akşam Sabri dedesiyle iftar vaktini beklerken dedesine; “ Bende oruç tutmak istiyorum” dedi. Dedesi henüz orucun ona farz olmadığını ancak isterse elbette tutabileceğini söyledi.

**Buna göre Zeynep Naz'a orucun farz olmamasının sebebi aşağıdakilerden hangisi olabilir?**

- A) Oruç tutacak kadar güçlü olmaması
- B) Okula gidiyor olması
- C) Evlenmemiş olması
- D) Ergenlik çağına girmemiş olması

**İNGİLİZCE TESTİ**

- Bu testte toplam 12 soru vardır.
- Cevaplarınızı optik formun İngilizce kısmına işaretleyiniz.
- Bu test için önerilen süre 12 dakikadır.

**Answer the questions (1 and 2) according to the text below.**

Hello, my name is Dave Smith. I live in the UK with my family and our two dogs. I am a student at a secondary school in London. I go to school on weekdays. I have seven lessons on a school day. It is a bit tiring but I love my school and being with my friends there. My favourite class is history because I am curious to learn about ancient times and cultures.

**1. Which of the following question is NOT answered in the text?**

- A) What is his name?
- B) Where does he live?
- C) When does he go to school?
- D) Which classes does he have a day?

**2. How many classes does Dave have in a week?**

- A) seven
- B) thirteen
- C) thirty-five
- D) twenty-eight

Jane loves ..... classes very much because she is crazy about drawing pictures.

Robert enjoys learning new languages so he attends ..... classes.

Antony is good at playing basketball and he likes ..... classes very much.

Nancy likes ..... classes. She also plays for the school band.

**3. Which of the following CANNOT be used for the blanks above?**

- A) art
- B) information technology
- C) physical education
- D) music

**William's mum sends him a message.**

"Honey, I am very busy at work today. Before I come back home, can you do the shopping for us? First, you should get some vegetables and meat for dinner. Then, you should buy some cookies for our guests. Next, you should send your letter to aunt. She is looking forward to hearing from you. Finally, if you have enough money, you can go to your favourite shop opposite the library to get some new coloured pencils. There is some money in the cupboard.

I love you."

Mum

**4. According to the information above, which shops does William go in order?**

- A) grocery - bakery - library - stationery
- B) butcher - café - pharmacy - bookshop
- C) shopping mall - restaurant - post office - library
- D) supermarket - bakery - post office - stationery



When you are walking in the city centre, you should be careful about the traffic. Most of the time there is a traffic jam, so you should pay attention to the traffic lights and vehicles. For example, you should use pedestrian-walk-away or the traffic lights to ..... the street.

5. Which of the following is appropriate for the blank?

- A) cross
- B) take
- C) turn
- D) go

Children like playing this game very much.

At least three children come together to play this game. One of them has a cloth tied over his or her eyes and tries to catch the others. When he or she catches one of them, the game starts again.

7. Which of the following is the name of the game?

- A) Hangman
- B) Dodgeball
- C) Chinese whispers
- D) Blind man's buff



Helen : Hi, Adam!

Adam : Hi, Helen. How are you?

Helen : Fine, thanks. And you?

Adam : I am OK. Hey! Are you free this Saturday?

Helen : Hmm. I have something to do, but what time?

Adam : At about 5 p.m. I know somewhere really exciting and want to take you there.

Helen : Sure .....

Adam : Alright. See you on Saturday, bye!

Helen : Bye!

6. Which of the following **CANNOT** be used for the dialogue above?

- A) I'd love to.
- B) Let's go, then.
- C) Sorry. I can't make it.
- D) I like seeing new places.

Hello, I am Peter. I am an energetic person and I do different activities. (I) For example, I go swimming with my friends on Mondays and Fridays. (II) I teach in a primary school. (III) On Tuesdays and Thursdays, I play table tennis with my sister. (IV) On Wednesdays, Saturdays and Sundays I join a drama club and do drama.

8. Which sentence is **irrelevant** in the text?

- A) I
- B) II
- C) III
- D) IV



**Maria's Daily Routine**

- 08:50 a.m. – get up, wash hands and face
- 09:10 a.m. – have breakfast
- 09:40 a.m. – start online classes
- 04:20 p.m. – finish classes
- 05:10 p.m. – have dinner
- 09:30 p.m. – read a book and go to bed

9. Which of the following daily routine does **NOT** Maria do in the morning?

- A) read a book
- B) have breakfast
- C) start online classes
- D) wash hands and face

“Dear Susan, I am so sorry to hear that you catch a cold and have a fever. I am abroad, so I can't visit you. Stay in bed, have a rest and take vitamins to get better. Don't forget to take your pills. I hope you get well soon. Take care.”

Taylor

11. Which of the following is **NOT** true according to the text?

- A) Susan should take her pills.
- B) Taylor is abroad but he can visit her.
- C) Susan catches a cold and has a fever.
- D) Taylor worries about his friend.



**Körfezim**  
EĞİTİM KURUMLARI

While Brad is helping his sister in the kitchen, he cuts his hand with a knife and it starts bleeding.

12. Which of the following does he need to stop bleeding?

- A) a blanket
- B) a thermometer
- C) cough syrup
- D) a plaster

10. Which of the following time is **NOT** stated in the schedule above?

- A) at twenty past four
- B) at half past nine
- C) at ten to eight
- D) at ten past nine

**MATEMATİK TESTİ**

- Bu testte toplam 12 soru vardır.
- Cevaplarınızı optik formun Matematik kısmına işaretleyiniz
- Bu test için önerilen süre 20 dakikadır.

1. Bir annenin yaşı kızının yaşının 4 katıdır. Dört yıl sonra annenin yaşı kızının yaşının üç katı olacaktır. **Buna göre annenin bugünkü yaşı kaçtır?**

- A) 24      B) 32      C) 36      D) 42

4. 5500 TL maaş alan Ahmet Bey maaşının beşte ikisini kiraya veriyor. **Faturalar ve mutfak masrafları için de maaşının beşte ikisini harcayan Ahmet Bey'in geriye kaç TL'si kalır?**

- A) 1100      B) 2200      C) 3300      D) 4400

2. Koşu turnuvasına hazırlanan Mete üç gün antrenman yapmıştır. Her gün bir önceki gün koştuğu sürenin iki katı kadar koşmuştur. **Mete ilk gün 1 saat antrenman yaptığına göre turnuva için toplam kaç saat antrenman yapmıştır?**

- A) 2      B) 4      C) 5      D) 7

5. Bir teneke sıvı yağın üçte ikisi 18 kg'dır. **Tenenenin tamamı dolu iken içindeki sıvı yağı 3 kg'lık şişelere boşaltmak isteyen Ayşe'nin kaç şişeye ihtiyacı vardır? (Tenekenin ağırlığı önemsenmeyecektir.)**

- A) 3      B) 9      C) 18      D) 27

3. 6 katlı bir yurt binasının her katında 6 oda her odada 6 yatak vardır. **Her yatakta bir kişi kalabildiğine göre bu yurttaki toplam kaç öğrenci kalabilir?**

- A) 36      B) 64      C) 128      D) 216

6. Bir satıra 7 kere babaanne yazan bir çocuğun defterininin bir sayfasında 12 satır bulunmaktadır. **Bu çocuk bir sayfanın tümüne babaanne yazdığında kaç kere "a" harfini kullanmış olur?**

- A) 98      B) 168      C) 252      D) 262



7. Uçurtma yapmak için 39 metre ip alan üç arkadaş ipin 12 metresini kullandıktan sonra kalanını eşit şekilde paylaşıyor.

Buna göre her birine kaç metre ip düşer?

- A) 12      B) 9      C) 6      D) 3

9. **Bilgi:** Kesirlerin genişletilerek veya sadeleştirilerek paydasının 10, 100 veya 1000 olacak şekilde yazılmasına kesirlerin ondalık gösterimi denir.

I.  $\frac{1}{8} = 0,25$

II.  $1,05 = \frac{105}{1000}$

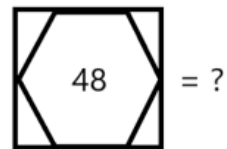
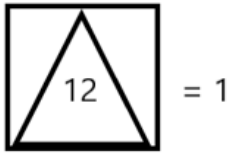
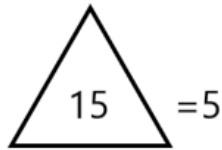
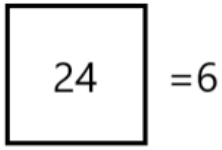
III.  $3,7 = \frac{37}{10}$

IV.  $\frac{15}{10} = 0,15$

Buna göre yukarıda verilen eşitliklerden kaç tanesi doğrudur?

- A) 1      B) 2      C) 3      D) 4

8.



Yukarıdaki şekiller ve sayılar arasında bir kural vardır.

Bu kurala göre “?” yerine hangi sayı gelmelidir?

- A) 4      B) 3      C) 2      D) 1

10.

$\frac{\Delta - 2}{5}$  bir birim kesirdir.


$\frac{\square + 3}{7}$  bir basit kesirdir.

Buna göre  $\Delta + \square$  toplamının alabileceği en büyük değer kaçtır?


- A) 7      B) 4      C) 5      D) 6



11.



1.Şekil



2.Şekil

Yukarıdaki şekillerde ifade edilen kesirlerin denk olabilmesi için 2. şekilden kaç tane kare boyanması gerekmektedir?

- A) 6      B) 8      C) 9      D) 12



**Körfez**  
EĞİTİM KURUMLARI

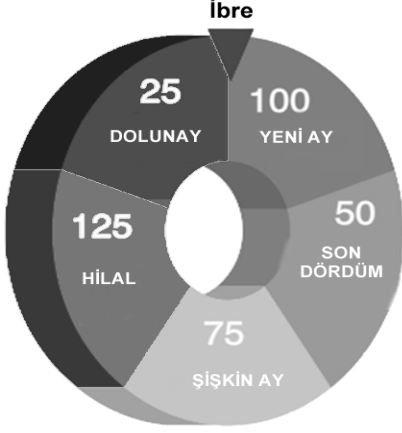
12. 4 arkadaş okul kütüphanesine 100 TL değerinde kitap almıştır. Parayı eşit paylaşarak ödeyeceklerdir. **Fakat** içlerinden birinin sadece 10 TL parası olduğuna göre geriye kalanlar kendi paylarına düşenden kaç TL daha fazla öderler?

- A) 5      B) 10      C) 15      D) 20

**FEN BİLİMLERİ TESTİ**

- Bu testte toplam 12 soru vardır.
- Cevaplarınızı optik formun Fen Bilimleri kısmına işaretleyiniz
- Bu test için önerilen süre 20 dakikadır.

1. Aşağıda ayın evreleri ile ilgili bir çark bulunmaktadır.

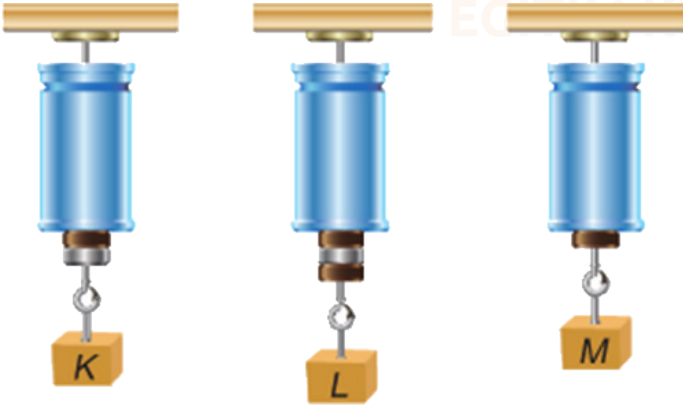


Arda çarkı üç kez çevirdiğinde çarkın ibresi 2 kez ana evre, 1 kez ara evrede duruyor.

Buna göre Arda'nın aldığı puan aşağıdakilerden hangisi olamaz?

- A) 250  
B) 175  
C) 125  
D) 300

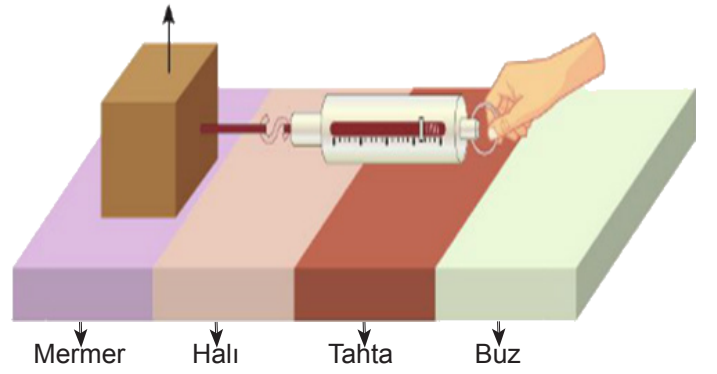
2.



Yukarıda verilen özdeş dinamometrelere K, L ve M cisimleri asılmıştır. M cisminin olduğu dinamometre 7,5 N ölçtüğüne göre K ve L dinamometreleri kaç Newtonluk değer ölçer?

- |    |          |          |
|----|----------|----------|
|    | <u>K</u> | <u>L</u> |
| A) | 15       | 22,5     |
| B) | 20       | 30       |
| C) | 15       | 15       |
| D) | 7,5      | 12,5     |

3. Karton Kutu



Sabit süratle aynı uzunlukta yollarda hareket ettirilen karton kutu her bir zeminden geçerken dinamometrede gösterilen değerler kontrol ediliyor.

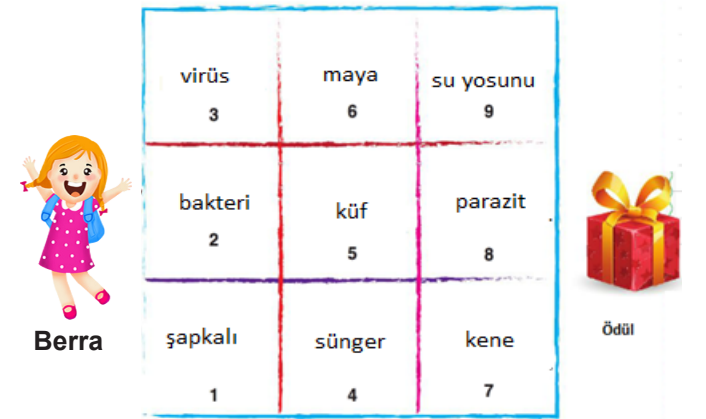
Buna göre hangi zemindeyken dinamometre en büyük değeri gösterir?

- A) Mermer B) Halı C) Tahta D) Buz

4. Berra, şekildeki "mantar çeşitlerini seçiyorum" oyunu oynayarak ödülü almak istiyor. Oyunu kuralları şunlardır;

- Sadece mantara ait olanların üzerine basılabilir.
- Tabloda ileri veya çapraz bir kareye basılarak ilerlenebilir

Buna göre Berra, ödüle ulaşmak için sırasıyla hangi numaralara basmalıdır?



- A) 1,5,6,8  
B) 3,5,8  
C) 2,6,9,8  
D) 1,5,8



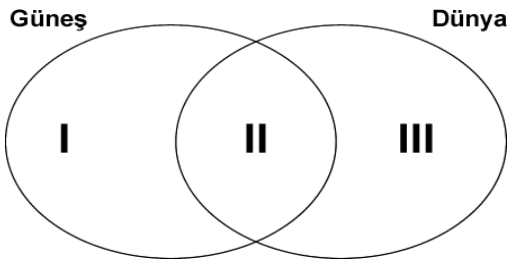
5. Ay'ın evreleri ile ilgili hazırlanan tablo aşağıda verilmiştir.

		Doğru Yanlış
1	Dolunaydan 7 gün sonra son dördün oluşur.	
2	Güneş'e en yakın durumda olan Ay evresi yeni ay evresidir.	
3	Ay'ın ters C şeklinde görülen evresi yeni ay ve son dördün evresi arasında gerçekleşir.	
4	Ay'ın evreleri 27,3 günde tamamlanır.	

Verilen tablodaki ifadelerin karşısına doğru ise "D", yanlış ise de "Y" harfini yazacak olan Ali, tüm ifadelere hatalı cevap verdiği göre, Ali'nin cevapları aşağıdakilerden hangisi gibi olur?

	1	2	3	4
A)	D	D	Y	Y
B)	Y	Y	D	D
C)	Y	D	Y	D
D)	Y	Y	D	Y

6.



Güneş ve Dünya'nın yapısına ait özellikler yukarıdaki Venn şemasında yazılacaktır. Buna göre aşağıdakilerden hangisi yanlış bir gösterim olur?

- A) I bölümüne "Katmanlardan oluşur" yazılabilir.  
 B) II bölümüne "Kendi eksenini etrafında döner" yazılabilir.  
 C) III bölümüne "Katı halde bulunur" yazılabilir.  
 D) I bölümüne "Isı ve ışık yayar" yazılabilir.

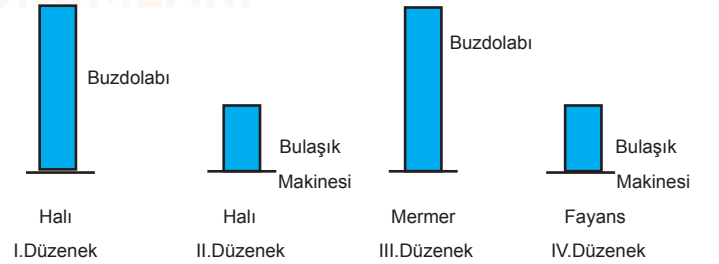
7. Öğrenciler hayvanat bahçesi gezisinde gördükleri ve inceledikleri hayvanları aşağıdaki tabloya kaydetmişlerdir.

1.Yılan	2.Kertenkele	3.Aslan	4.Timsah
5.Fare	6.Penguen	7.Akdeniz Foku	8.Yarasa
9.Tavuk	10.İguana	11.Balina	12.Semender

Buna göre tabloda verilen hayvanların kaç tanesinde yavru bakımı görülür?

- A) 5  
 B) 4  
 C) 7  
 D) 6

8. Fen Bilimleri dersinde sürtünme kuvvetinin yüzeyin cinsine ve cismin ağırlığına bağlı olduğunu öğrenen Çınar bunu incelemek için deney düzenekleri kurmuştur.



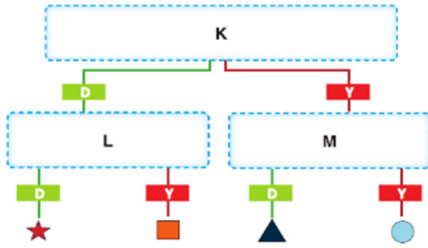
X: Yüzeyin cinsinin etkisini gözlemlemek için,  
 Y: Cismin ağırlığının etkisini gözlemlemek için,

Çınar yukarıdaki düzeneklerden hangilerini tercih ederse amacına ulaşır?

- X  
 A) I ve III  
 B) II ve IV  
 C) II ve III  
 D) II ve IV
- Y  
 II ve III  
 I ve III  
 I ve IV  
 I ve II



9.

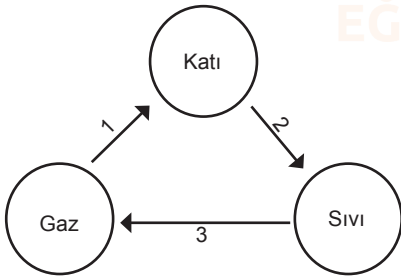


Yukarıdaki etkinliği doğru çözen Mehmet ▲ şekline ulaşıyor.

Buna göre K ve M kutucuklarında aşağıdaki bilgilerden hangileri yazılmalıdır?

- 1- Ay, Dünya'ya Güneş'ten daha uzaktır.
- 2- Dünya'dan bakıldığında Ay'ın Güneş ile hemen hemen aynı büyüklükte görünmesinin sebebi Güneş'in Dünya'ya Ay'dan çok daha uzak olmasıdır.
- 3- Ay'da gece gündüz arasındaki sıcaklık farkı çok azdır.
- 4- Ay kendi etrafında dönerken aynı zamanda Dünya'nın etrafında dolanma hareketi yapar.

- K
- A) 1  
B) 1  
C) 3  
D) 4
- 10.

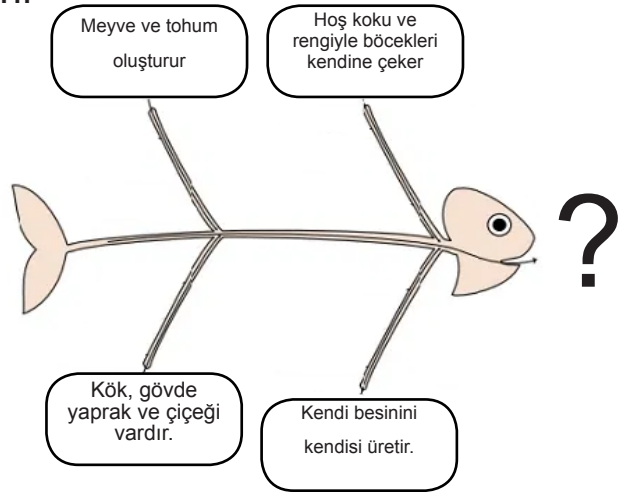


Maddelerin ısı alarak veya vererek bir halden başka bir hale geçmesine hal değişimi denir.

Şemadaki numaralarda gerçekleşen hal değişimlerinde meydana gelen ısı alışverişinin doğru olabilmesi için numaralandırılmış bölmelere ne yazılmalıdır?

- |              |           |           |
|--------------|-----------|-----------|
| <u>1</u>     | <u>2</u>  | <u>3</u>  |
| A) Isı alır  | ısı verir | ısı verir |
| B) Isı alır  | ısı alır  | ısı alır  |
| C) Isı verir | ısı alır  | ısı alır  |
| D) Isı verir | ısı verir | ısı verir |

11.



Yukarıdaki balık kılıçığı modelinde verilen özellikler dikkate alındığında "?" ile gösterilen yere aşağıdakilerden hangisi gelmelidir ?

- A) Ciğer Otu  
B) Atkuyruğu  
C) Eğrelti Otu  
D) Papatya

12.

**SÜRTÜNME KUVVETİ**

OLUMLU ETKİLERİ	OLUMSUZ ETKİLERİ
1-Frene basıldığında arabaların durması	4-Araçların motor parçalarının aşınması
2-Ayakkabılarımızın tabanının eskimesi	5-Kıyafetlerimizin eskimesi
3-Göktaşlarının Dünya atmosferine girdiğinde yanması	6-Yağmur damlalarının yavaş bir şekilde yere inmesi

Yukarıda sürtünme kuvvetinin olumlu ve olumsuz etkilerinin verildiği tablo hazırlanırken hata yapılmıştır. Hangi numaralardaki örnekler yer değiştirilirse hata giderilmiş olur?

- A) 1 ve 4 numaralı örnekler yer değiştirmeli  
B) 2 ve 6 numaralı örnekler yer değiştirmeli  
C) 3 ve 5 numaralı örnekler yer değiştirmeli  
D) 3 ve 4 numaralı örnekler yer değiştirmeli

